

Class 6 Maths Important Questions Hindi Medium

Chapter 15 सममितता UP Board

अतिलघूत्तरात्मक प्रश्न

प्रश्न 1.

सममित रेखा किसे कहते हैं?

उत्तर:

किसी आकृति में एक खींची गई रेखा, यदि उसे दो बराबर या समान भागों में बाँटती हो, तो यह सममित रेखा कहलाती है।

प्रश्न 2.

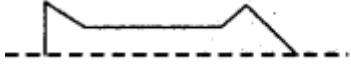
एक समद्विबाहु त्रिभुज में कितनी सममित रेखा होती हैं?

उत्तर:

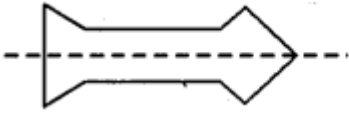
केवल एक।

प्रश्न 3.

दिये गये अधूरे चित्र को सममित रेखा के सहारे पूरा कीजिए।




उत्तर:



प्रश्न 4.

दी गई आकृतियों में से सममित आकृतियाँ छांटिये



उत्तर:

A, C, D

प्रश्न 5.

अंग्रेजी वर्णमाला के निम्नांकित अक्षरों में प्रत्येक की। सममित रेखाओं की संख्या ज्ञात कीजिए

(i) **M** (ii) **H** (iii) **K**

उत्तर:

(i) 1, (ii) 2, (iii) 1