

# Class 6 Maths Important Questions Hindi Medium

## Chapter 5 प्रारंभिक आकारों को समझना

### अतिलघूत्तरात्मक प्रश्न

प्रश्न 1.

अधिककोण किसे कहते हैं?

उत्तर:

यदि कोई कोण एक समकोण से बड़ा और एक ऋजुकोण से छोटा है तो वह एक अधिक कोण कहलाता है।

प्रश्न 2.

दिये गये चित्र में कोणों तथा शीर्षों के नाम लिखो।



उत्तर:

$\angle A$ ,  $\angle B$  तथा  $\angle C$ ; शीर्ष A, B तथा C

प्रश्न 3.

किसी त्रिभुज में कितने अधिककोण हो सकते हैं?

उत्तर:

एक।

प्रश्न 4.

पिरामिड किसे कहते हैं?

उत्तर:

एक पिरामिड वह आकार है जिसमें आधार का फलक किसी भी बहुभुज के आकार का हो सकता है और शेष फलक त्रिभुजाकार होते हैं।

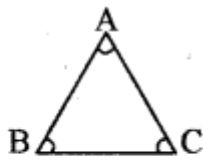
### लघूत्तरात्मक प्रश्न

प्रश्न 1.

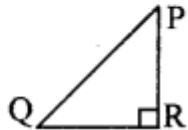
एक न्यूनकोण त्रिभुज तथा समकोण त्रिभुज का रफ चित्र खींचिये।

उत्तर:

न्यूनकोण त्रिभुज—

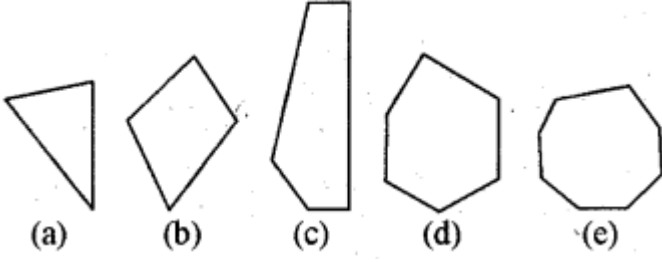


समकोण त्रिभुज—



प्रश्न 2.

दिये गये प्रत्येक बहुभुज का नाम लिखिए



हल:

(a) त्रिभुज (b) चतुर्भुज (c) पंचभुज (d) षड्भुज (e) अष्टभुज।