

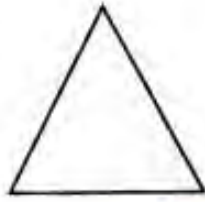




Class 7 Maths Important Questions Hindi Medium Chapter 13 – ठोस आकारों का चित्रण

लघूत्तरात्मक प्रश्न

प्रश्न 1.

निम्न द्विविमीय आकृतियों का नामों के साथ मिलान कीजिए :

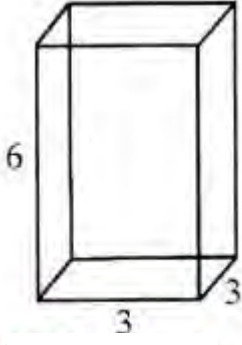
- (i)  (a) वृत्त
- (ii)  (b) आयत
- (iii)  (c) वर्ग
- (iv)  (d) चतुर्भुज
- (v)  (e) त्रिभुज

उत्तर:

- (i) - b
(ii) - a
(iii) - e
(iv) - c
(v) d

प्रश्न 2.

यहाँ किसी घनाभ का एक तिर्यक चित्र दिया गया है। इस चित्र से मिलान करने वाला एक समद्वयीक चित्र खींचिए।



हल

इसका हल दी गई आकृति में चित्र खींच कर दर्शाया गया है।

