

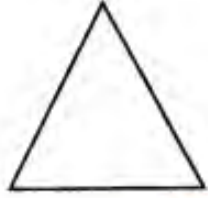




## Class 7 Maths Important Questions Hindi Medium Chapter 16 त्रिविमीय आकृतियों का द्विविमीय निरूपण

### लघूत्तरात्मक प्रश्न

प्रश्न 1.

निम्न द्विविमीय आकृतियों का नामों के साथ मिलान कीजिए :

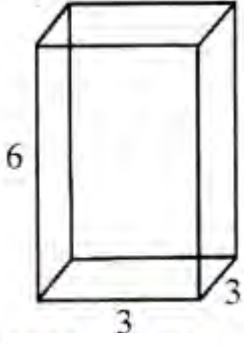
- |  |              |
|--|--------------|
| (i)     | (a) वृत्त    |
| (ii)    | (b) आयत      |
| (iii)  | (c) वर्ग     |
| (iv)  | (d) चतुर्भुज |
| (v)   | (e) त्रिभुज  |

उत्तर:

- (i) - b  
(ii) - a  
(iii) - e  
(iv) - c  
(v) d

प्रश्न 2.

यहाँ किसी घनाभ का एक तिर्यक चित्र दिया गया है। इस चित्र से मिलान करने वाला एक समदूरीक चित्र खींचिए।



हल

इसका हल दी गई आकृति में चित्र खींच कर दर्शाया गया है।

