

Series : RPQ3S



SET~2

प्रश्न-पत्र कोड  
Q.P. Code

56/3/2

रोल नं. 

--	--	--	--	--	--	--	--

  
Roll No.

परीक्षार्थी प्रश्न-पत्र कोड को उत्तर-पुस्तिका के मुख-पृष्ठ पर अवश्य लिखें।  
Candidates must write the Q.P. Code on the title page of the answer-book.

नोट	NOTE
(I) कृपया जाँच कर लें कि इस प्रश्न-पत्र में मुद्रित पृष्ठ 19 हैं।	(I) Please check that this question paper contains 19 printed pages.
(II) प्रश्न-पत्र में दाहिने हाथ की ओर दिए गए प्रश्न-पत्र कोड को परीक्षार्थी उत्तर-पुस्तिका के मुख-पृष्ठ पर लिखें।	(II) Q.P. Code given on the right hand side of the question paper should be written on the title page of the answer-book by the candidate.
(III) कृपया जाँच कर लें कि इस प्रश्न-पत्र में 33 प्रश्न हैं।	(III) Please check that this question paper contains 33 questions.
(IV) कृपया प्रश्न का उत्तर लिखना शुरू करने से पहले, उत्तर-पुस्तिका में यथा स्थान पर प्रश्न का क्रमांक अवश्य लिखें। []	(IV) Please write down the Serial Number of the question in the answer-book at the given place before attempting it.
(V) इस प्रश्न-पत्र को पढ़ने के लिए 15 मिनट का समय दिया गया है। प्रश्न-पत्र का वितरण पूर्वाह्न में 10.15 बजे किया जाएगा। 10.15 बजे से 10.30 बजे तक परीक्षार्थी केवल प्रश्न-पत्र को पढ़ेंगे और इस अवधि के दौरान वे उत्तर-पुस्तिका पर कोई उत्तर नहीं लिखेंगे।	(V) 15 minute time has been allotted to read this question paper. The question paper will be distributed at 10.15 a.m. From 10.15 a.m. to 10.30 a.m., the candidates will read the question paper only and will not write any answer on the answer-book during this period.



रसायन विज्ञान (सैद्धान्तिक)  
CHEMISTRY (Theory)



निर्धारित समय : 3 घण्टे

Time allowed : 3 hours

अधिकतम अंक : 70

Maximum Marks : 70



### सामान्य निर्देश :

निम्नलिखित निर्देशों को ध्यानपूर्वक पढ़िए और उनका पालन कीजिए :

- (i) इस प्रश्न-पत्र में 33 प्रश्न हैं। सभी प्रश्न अनिवार्य हैं।
- (ii) यह प्रश्न-पत्र पाँच खण्डों में विभाजित है – खण्ड क, ख, ग, घ एवं ङ।
- (iii) खण्ड क – प्रश्न संख्या 1 से 16 तक बहुविकल्पीय प्रकार के प्रश्न हैं। प्रत्येक प्रश्न 1 अंक का है।
- (iv) खण्ड ख – प्रश्न संख्या 17 से 21 तक अति लघु-उत्तरीय प्रकार के प्रश्न हैं। प्रत्येक प्रश्न 2 अंकों का है।
- (v) खण्ड ग – प्रश्न संख्या 22 से 28 तक लघु-उत्तरीय प्रकार के प्रश्न हैं। प्रत्येक प्रश्न 3 अंकों का है।
- (vi) खण्ड घ – प्रश्न संख्या 29 तथा 30 केस-आधारित प्रश्न हैं। प्रत्येक प्रश्न 4 अंकों का है।
- (vii) खण्ड ङ – प्रश्न संख्या 31 से 33 दीर्घ-उत्तरीय प्रकार के प्रश्न हैं। प्रत्येक प्रश्न 5 अंकों का है।
- (viii) प्रश्न-पत्र में समग्र विकल्प नहीं दिया गया है। यद्यपि, खण्ड क के अतिरिक्त अन्य सभी खण्डों के कुछ प्रश्नों में आंतरिक विकल्प का चयन दिया गया है।
- (ix) ध्यान दें कि दृष्टिबाधित परीक्षार्थियों के लिए अलग प्रश्न-पत्र है।
- (x) कैल्कुलेटर का उपयोग वर्जित है।

### खण्ड क

प्रश्न संख्या 1 से 16 तक बहुविकल्पीय प्रकार के 1 अंक के प्रश्न हैं।

16×1=16

1. किसी विलेय के 2.0 मोलल जलीय विलयन में उसका मोल-अंश होता है :
 

(A) 1.87	(B) 0.347
(C) 0.0347	(D) 0.00347
2. प्लैटिनम इलेक्ट्रोडों के साथ NaCl के अति तनु जलीय विलयन का विद्युत-अपघटन करने पर :
 

(A) एनोड पर H <sub>2</sub> गैस उत्सर्जित होती है।	(B) कैथोड पर Na उत्पादित होता है।
(C) एनोड पर O <sub>2</sub> गैस उत्सर्जित होती है।	(D) कैथोड पर H <sub>2</sub> गैस उत्सर्जित होती है।



**General Instructions :**

Read the following instructions carefully and follow them :

- (i) This question paper contains **33** questions. **All** questions are **compulsory**.
- (ii) This question paper is divided into **five** sections – **Section A, B, C, D and E**.
- (iii) **Section A** – questions number **1 to 16** are multiple choice type questions. Each question carries **1** mark.
- (iv) **Section B** – questions number **17 to 21** are very short answer type questions. Each question carries **2** marks.
- (v) **Section C** – questions number **22 to 28** are short answer type questions. Each question carries **3** marks.
- (vi) **Section D** – questions number **29 and 30** are case-based questions. Each question carries **4** marks.
- (vii) **Section E** – questions number **31 to 33** are long answer type questions. Each question carries **5** marks.
- (viii) There is no overall choice given in the question paper. However, an internal choice has been provided in few questions in all the sections except Section A.
- (ix) Kindly note that there is a separate question paper for Visually Impaired candidates.
- (x) Use of calculator is **not** allowed.

**SECTION A**

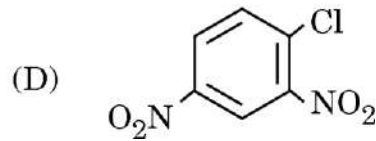
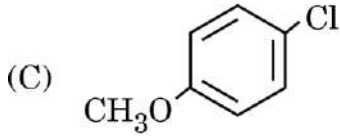
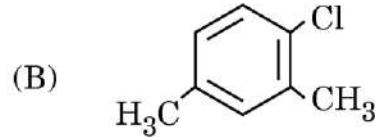
Questions no. **1 to 16** are Multiple Choice type Questions, carrying **1** mark each.  $16 \times 1 = 16$

1. The mole fraction of a solute in 2.0 molal aqueous solution is :
- (A) 1.87 (B) 0.347  
(C) 0.0347 (D) 0.00347
2. On electrolysis of very dilute aqueous solution of NaCl using platinum electrodes :
- (A) H<sub>2</sub> gas is evolved at anode.  
(B) Na is produced at cathode.  
(C) O<sub>2</sub> gas is evolved at anode.  
(D) H<sub>2</sub> gas is evolved at cathode.

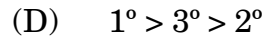
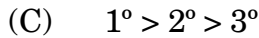
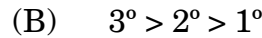
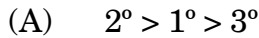




3. निम्नलिखित यौगिकों में से कौन-सा जलीय NaOH के साथ नाभिकरागी प्रतिस्थापन अभिक्रियाओं के प्रति सर्वाधिक अभिक्रियाशील है ?



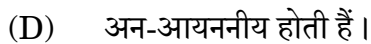
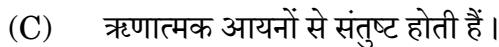
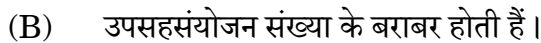
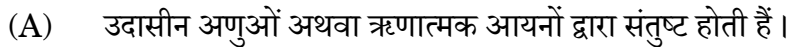
4. 1°, 2° और 3° ऐल्कोहॉल निर्जलन के प्रति निम्नलिखित क्रम में से किसका अनुसरण करते हैं ?



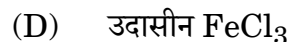
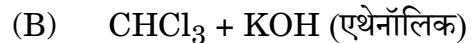
5. [Co(NH<sub>3</sub>)<sub>5</sub>(ONO)] SO<sub>4</sub> में Co की ऑक्सीकरण संख्या है :



6. वर्नर के सिद्धांत के अनुसार, केन्द्रीय धातु परमाणु की प्राथमिक संयोजकताएँ :

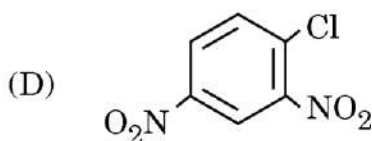
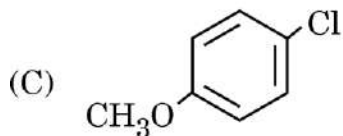
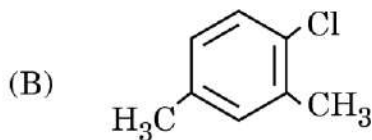


7. C<sub>2</sub>H<sub>5</sub>NH<sub>2</sub> और (C<sub>2</sub>H<sub>5</sub>)<sub>2</sub>NH में विभेद करने के लिए कौन-सा अभिकर्मक प्रयुक्त होता है ?

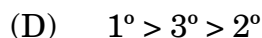
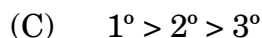
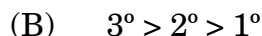
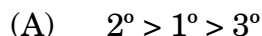





3. Which of the following, compounds is most reactive towards nucleophilic substitution reaction with aqueous NaOH ?



4. The dehydration of 1°, 2° and 3° alcohols follows the order :



5. The oxidation number of Co in  $[\text{Co}(\text{NH}_3)_5(\text{ONO})]\text{SO}_4$  is :



6. According to Werner's theory, the primary valencies of the central metal atom :

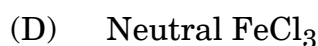
(A) are satisfied by neutral molecules or negative ions.

(B) are equal to its coordination number.

(C) are satisfied by negative ions.

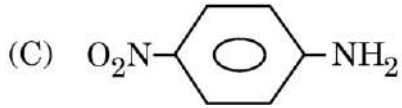
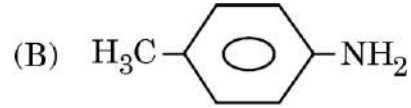
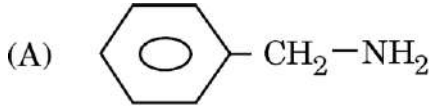
(D) are non-ionisable.

7. Which reagent is used to distinguish between  $\text{C}_2\text{H}_5\text{NH}_2$  and  $(\text{C}_2\text{H}_5)_2\text{NH}$  ?





8. निम्नलिखित में से किसका  $pK_b$  मान न्यूनतम है ?



9. जलीय अम्लीय विलयन में,  $CrO_4^{2-}$  आयन निम्नलिखित में से किसमें रूपान्तरित हो जाता है ?



10. शुद्ध जल और नाइट्रिक अम्ल के क्वथनांकों की अपेक्षा जल और नाइट्रिक अम्ल के स्थिरक्वाथी मिश्रण का क्वथनांक अधिक होता है। यह मिश्रण दर्शाता है :

(A) राउल्ट के नियम से कोई विचलन नहीं

(B) यह विलयन एक आदर्श विलयन है

(C) राउल्ट के नियम से धनात्मक विचलन

(D) राउल्ट के नियम से ऋणात्मक विचलन

11. जल-अपघटन होने पर, निम्नलिखित कार्बोहाइड्रेटों में से कौन-सा केवल ग्लूकोस देता है ?

(A) स्टार्च

(B) सुक्रोस

(C) लैक्टोस

(D) गैलेक्टोस

12. अभिक्रिया  $2A \rightarrow 3B$  के लिए, अभिक्रिया वेग  $+\frac{d[B]}{dt}$  बराबर है :

(A)  $-\frac{3}{2} \frac{d[A]}{dt}$

(B)  $-\frac{2}{3} \frac{d[A]}{dt}$

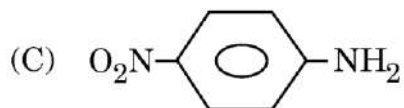
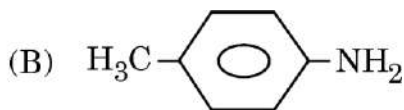
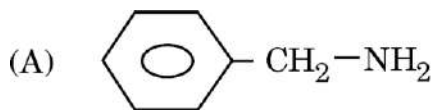
(C)  $-\frac{1}{2} \frac{d[A]}{dt}$

(D)  $+3 \frac{d[A]}{dt}$






8. Among the following, which one has the lowest value of  $pK_b$  ?



9. In aqueous acidified solution,  $\text{CrO}_4^{2-}$  ion converts to which of the following ?



10. The boiling point of an azeotropic mixture of water and nitric acid is more than that of pure water and nitric acid. The mixture shows :

(A) no deviation from Raoult's law

(B) that solution is an ideal solution

(C) positive deviation from Raoult's law

(D) negative deviation from Raoult's law

11. On hydrolysis, which of the following carbohydrates gives only glucose ?

(A) Starch

(B) Sucrose

(C) Lactose

(D) Galactose

12. For the reaction  $2A \rightarrow 3B$ , the rate of reaction  $+\frac{d[B]}{dt}$  is equal to :

(A)  $-\frac{3}{2} \frac{d[A]}{dt}$

(B)  $-\frac{2}{3} \frac{d[A]}{dt}$

(C)  $-\frac{1}{2} \frac{d[A]}{dt}$

(D)  $+3 \frac{d[A]}{dt}$





प्रश्न संख्या 13 से 16 के लिए, दो कथन दिए गए हैं — जिनमें एक को अभिकथन (A) तथा दूसरे को कारण (R) द्वारा अंकित किया गया है। इन प्रश्नों के सही उत्तर नीचे दिए गए कोडों (A), (B), (C) और (D) में से चुनकर दीजिए।

- (A) अभिकथन (A) और कारण (R) दोनों सही हैं और कारण (R), अभिकथन (A) की सही व्याख्या करता है।  
 (B) अभिकथन (A) और कारण (R) दोनों सही हैं, परन्तु कारण (R), अभिकथन (A) की सही व्याख्या नहीं करता है।  
 (C) अभिकथन (A) सही है, परन्तु कारण (R) ग़लत है।  
 (D) अभिकथन (A) ग़लत है, परन्तु कारण (R) सही है।

13. अभिकथन (A) : Zr और Hf का पृथक्करण कठिन होता है।  
 कारण (R) : लैन्थेनॉयड आकुंचन के कारण Zr और Hf की परमाणु एवं आयनिक त्रिज्याएँ लगभग समान होती हैं।
14. अभिकथन (A) : 4-मेथिलफ़ीनॉल की तुलना में फ़ीनॉल अधिक अम्लीय होती है।  
 कारण (R) : फ़ीनॉल में इलेक्ट्रॉन विमोचक समूह की उपस्थिति उसे अधिक अम्लीय बना देता है।
15. अभिकथन (A) : ऐरोमैटिक प्राथमिक ऐमीनों को गैब्रिएल थैलिमाइड संश्लेषण द्वारा आसानी से बनाया जा सकता है।  
 कारण (R) : गैब्रिएल थैलिमाइड संश्लेषण केवल ऐलिकेटिक प्राथमिक ऐमीनों को बनाने के लिए प्रयुक्त की जाती है।
16. अभिकथन (A) : अभिक्रिया की कोटि प्राथमिक अभिक्रिया पर लागू नहीं होती परन्तु जटिल अभिक्रिया पर लागू होती है।  
 कारण (R) : अभिक्रिया की कोटि एक प्रायोगिक मात्रा है।

### खण्ड ख

17. व्याख्या कीजिए कि क्यों 1 लीटर जल में 1 मोल KCl मिलाने पर जल का क्वथनांक बढ़ जाता है, जबकि 1 लीटर जल में 1 मोल मेथिल ऐल्कोहॉल मिलाने पर जल का क्वथनांक घट जाता है। 2
18. (क) निम्नलिखित यौगिकों के IUPAC नाम लिखिए : 1+1=2  
 (i)  $[\text{PtCl}_2(\text{en})_2]\text{SO}_4$   
 (ii)  $(\text{NH}_4)_2[\text{CoF}_4]$

अथवा





**For Questions number 13 to 16, two statements are given — one labelled as Assertion (A) and the other labelled as Reason (R). Select the correct answer to these questions from the codes (A), (B), (C) and (D) as given below :**

- (A) Both Assertion (A) and Reason (R) are true and Reason (R) is the correct explanation of the Assertion (A).
- (B) Both Assertion (A) and Reason (R) are true, but Reason (R) is **not** the correct explanation of the Assertion (A).
- (C) Assertion (A) is true, but Reason (R) is false.
- (D) Assertion (A) is false, but Reason (R) is true.

**13.** *Assertion (A) :* Separation of Zr and Hf is difficult.

*Reason (R) :* Zr and Hf have almost identical atomic and ionic radii due to lanthanoid contraction.

**14.** *Assertion (A) :* Phenol is more acidic than 4-methylphenol.

*Reason (R) :* The presence of an electron releasing group in phenol makes it more acidic.

**15.** *Assertion (A) :* Aromatic primary amines can easily be prepared by Gabriel phthalimide synthesis.

*Reason (R) :* Gabriel phthalimide synthesis is used to prepare only aliphatic primary amines.

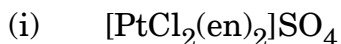
**16.** *Assertion (A) :* Order of reaction is not applicable for elementary reaction but applicable for complex reaction.

*Reason (R) :* Order of reaction is an experimental quantity.

### SECTION B

**17.** Explain why, on addition of 1 mol of KCl to 1 litre of water, the boiling point of water increases, while the addition of 1 mol of methyl alcohol to 1 litre of water decreases the boiling point. 2

**18.** (a) Write IUPAC names of the following compounds : 1+1=2



**OR**





(ख) प्रत्येक के लिए एक-एक उपयुक्त उदाहरण के साथ निम्नलिखित पदों को परिभाषित कीजिए : 1+1=2

(i) उभयदंती लिगण्ड

(ii) द्वि-लवण

19.  $C_4H_9Br$  अणुसूत्र वाले यौगिक के लिए, लिखिए :

(क) समावयव जो  $S_N1$  प्रतिस्थापन के प्रति सर्वाधिक अभिक्रियाशील है।

(ख) समावयव जो शुष्क ईथर की उपस्थिति में Na धातु के साथ अभिक्रिया करके 2,5-डाइमेथिलहैक्सेन देता है। 1+1=2

20. अभिक्रिया  $A + B \rightarrow$  उत्पाद के लिए, वेग नियम है :

$$\text{वेग} = k[A][B]^{\frac{3}{2}}$$

अभिक्रिया की समग्र कोटि लिखिए। क्या यह अभिक्रिया एक प्राथमिक अभिक्रिया हो सकती है ? अपने उत्तर के समर्थन के लिए कारण दीजिए। 2

21. आप निम्नलिखित की व्याख्या कैसे करेंगे ? 2

(क) ग्लूकोस में कार्बोनिल समूह की उपस्थिति

(ख) ग्लूकोस में पाँच - OH समूहों की उपस्थिति

### खण्ड ग

22. निम्नलिखित के लिए कारण दीजिए : 3

(क) ऐल्किल हैलाइड यद्यपि ध्रुवीय होते हैं, फिर भी उनकी जल में विलेयता बहुत कम होती है।

(ख) ऑर्थो- और मेटा-समावयवों की अपेक्षा p-डाइक्लोरोबेन्जीन का गलनांक उच्चतर होता है।

(ग)  $S_N2$  अभिक्रियाओं के प्रति  $CH_3 - Br$  की तुलना में  $CH_3 - I$  अधिक अभिक्रियाशील होता है।

23. आप बेन्जीन डाइऐज़ोनियम क्लोराइड से निम्नलिखित को कैसे प्राप्त करेंगे ? सम्मिलित रासायनिक समीकरण लिखिए : 3

(क) फ्रीनॉल

(ख) आयोडोबेन्जीन

(ग) p-एमीनोऐज़ोबेन्जीन



[ ]



- (b) Define the following terms with a suitable example in each case :  $1+1=2$
- (i) Ambidentate ligand
- (ii) Double salt

19. For the compound having molecular formula  $C_4H_9Br$ , write :

- (a) the isomer which is most reactive towards  $S_N1$  displacement.
- (b) the isomer which, on reacting with Na metal in the presence of dry ether, gives 2,5-Dimethylhexane.  $1+1=2$

20. For a reaction  $A + B \rightarrow \text{Products}$ , the rate law is :

$$\text{Rate} = k[A][B]^{\frac{3}{2}}$$

Write the overall order of the reaction. Can this reaction be an elementary reaction ? Give reason in support of your answer. 2

21. How do you explain the following ? 2

- (a) Presence of a carbonyl group in glucose
- (b) Presence of five – OH groups in glucose

### SECTION C

22. Give reasons for the following : 3

- (a) Alkyl halides, though polar, yet their solubility in water is very low.
- (b) p-Dichlorobenzene has higher melting point than those of o- and m-isomers.
- (c)  $CH_3 - I$  is more reactive than  $CH_3 - Br$  towards  $S_N2$  reactions.

23. How will you obtain the following from benzene diazonium chloride ? Write chemical equations involved : 3

- (a) Phenol
- (b) Iodobenzene
- (c) p-Aminoazobenzene





24.  $C_3H_5N$  आण्विक सूत्र का एक कार्बनिक यौगिक (A),  $C_6H_5MgBr$  के साथ अभिक्रिया करने के उपरान्त जल-अपघटन करने पर यौगिक (B) देता है। यौगिक (B), 2,4-डी.एन.पी. अभिकर्मक के साथ नारंगी-लाल अवक्षेप देता है तथा आयोडोफॉर्म परीक्षण नहीं देता है। यह टॉलेन्स अभिकर्मक अथवा फेलिंग अभिकर्मक को अपचित नहीं करता है और न ही ब्रोमीन जल को वर्णविहीन करता है। यह क्रोमिक अम्ल द्वारा प्रबल ऑक्सीकरण से एक कार्बोक्सिलिक अम्ल (C) बनाता है जिसका आण्विक सूत्र  $C_7H_6O_2$  है। यौगिक (A), (B) और (C) को पहचानिए। यौगिक (A) की  $C_6H_5MgBr$  के साथ अभिक्रिया करने के उपरान्त जल-अपघटन करने पर यौगिक (B) बनने की अभिक्रियाएँ लिखिए। 3

25. 31 g एथिलीन ग्लाइकॉल (मोलर द्रव्यमान =  $62 \text{ g mol}^{-1}$ ) को 600 g जल में घोलकर एक प्रतिहिम विलयन बनाया जाता है। विलयन का हिमांक परिकलित कीजिए।  
(जल के लिए  $K_f = 1.86 \text{ K kg mol}^{-1}$ ) 3

26. (क)  $[NiCl_4]^{2-}$  और  $[Ni(CN)_4]^{2-}$   
उपर्युक्त संकुलों के विषय में निम्नलिखित प्रश्नों के उत्तर दीजिए :  $3 \times 1 = 3$   
(i) प्रत्येक प्रकरण में सम्मिलित संकरण लिखिए।  
(ii) इनमें से कौन-सा आंतरिक कक्षक संकुल है और कौन-सा बाह्य कक्षक संकुल है ?  
(iii) इनके चुम्बकीय व्यवहार की तुलना कीजिए।  
[परमाणु क्रमांक : Ni = 28]

### अथवा

(ख) (i) जैव तंत्र में महत्त्वपूर्ण दो उपसहसंयोजन यौगिकों के नाम लिखिए।  
(ii) कीलेट प्रभाव से क्या अभिप्राय है ? एक उदाहरण दीजिए।  
(iii) निम्न प्रचक्रण चतुष्फलकीय संकुल विरले ही क्यों बनते हैं ?  $3 \times 1 = 3$

27. आयनों के स्वतंत्र अभिगमन का कोलराउश का नियम बताइए। एक वक्र की सहायता से व्याख्या कीजिए कि दुर्बल विद्युत-अपघट्यों के लिए सांद्रता – मोलर चालकता वक्र के बहिर्वेशन द्वारा  $\Lambda_m^\circ$  का मान ज्ञात क्यों नहीं किया जा सकता है, जिस प्रकार प्रबल विद्युत-अपघट्यों के लिए किया जा सकता है। 3

28. किसी रेडियोसक्रिय तत्व की अर्ध-आयु  $1.5 \times 10^{10}$  वर्ष है। उस समय का परिकलन कीजिए जिसमें तत्व की सक्रियता उसके प्रारंभिक मान से घटकर 75% रह जाती है।  
[दिया गया है :  $\log 2 = 0.30$ ,  $\log 3 = 0.48$ ,  $\log 4 = 0.60$ ] 3





24. An organic compound (A) with molecular formula  $C_3H_5N$  on reaction with  $C_6H_5MgBr$  followed by hydrolysis, gives a compound (B). Compound (B) forms an orange-red precipitate with 2,4-DNP reagent and does not give iodoform test. It neither reduces Tollens' or Fehling's reagent nor does it decolourise bromine water. On drastic oxidation with chromic acid it gives a carboxylic acid (C) having molecular formula  $C_7H_6O_2$ . Identify the compounds (A), (B) and (C). Write the reactions of compound (A) with  $C_6H_5MgBr$  followed by hydrolysis to give compound (B). 3
25. An antifreeze solution is prepared by dissolving 31 g of ethylene glycol (Molar mass =  $62 \text{ g mol}^{-1}$ ) in 600 g of water. Calculate the freezing point of the solution. ( $K_f$  for water =  $1.86 \text{ K kg mol}^{-1}$ ) 3
26. (a) Answer the following questions about the complexes 3×1=3  
 $[NiCl_4]^{2-}$  and  $[Ni(CN)_4]^{2-}$   
 (i) Write the hybridization involved in each case.  
 (ii) Which of them is the inner orbital complex and which one is the outer orbital complex ?  
 (iii) Compare their magnetic behaviour.  
 [Atomic number : Ni = 28]
- OR**
- (b) (i) Name two coordination compounds which are important in biological systems.  
 (ii) What is meant by chelate effect ? Give an example.  
 (iii) Why are low spin tetrahedral complexes rarely formed ? 3×1=3
27. State Kohlrausch's law of independent migration of ions. With the help of a curve, explain why it is not easy to determine  $\Lambda_m^\circ$  for weak electrolytes by extrapolating the concentration – molar conductivity curve, as it is for strong electrolytes. 3
28. The half-life period of a radioactive element is  $1.5 \times 10^{10}$  years. Calculate the time in which the activity of the element is reduced to 75% of its original value. 3

[Given :  $\log 2 = 0.30$ ,  $\log 3 = 0.48$ ,  $\log 4 = 0.60$ ]





### खण्ड घ

निम्नलिखित प्रश्न केस-आधारित प्रश्न हैं। केस को ध्यानपूर्वक पढ़िए और दिए गए प्रश्नों के उत्तर दीजिए।

29. लगभग तुल्य द्रव्यमान वाले अन्य वर्गों जैसे हाइड्रोकार्बनों, ईथरों तथा हैलोएल्केनों के यौगिकों की तुलना में ऐल्कोहॉलों के क्वथनांक अधिक होते हैं। दुर्बल ऑक्सीकारकों द्वारा प्राथमिक ऐल्कोहॉल ऑक्सीकृत होकर ऐल्डिहाइड प्रदान करते हैं तथा प्रबल ऑक्सीकारकों द्वारा कार्बोक्सिलिक अम्ल प्राप्त होते हैं। द्वितीयक ऐल्कोहॉल ऑक्सीकृत होकर कीटोन प्रदान करते हैं जबकि तृतीयक ऐल्कोहॉल ऑक्सीकरण प्रतिरोधी होते हैं। ईथरों को ऐल्कोहॉलों के निर्जलन तथा विलियमसन संश्लेषण विधि द्वारा बनाया जाता है। ईथरों के C – O आबंध को हाइड्रोजन हैलाइडों द्वारा विदलित किया जा सकता है। फ़ीनॉलों में, –OH समूह की उपस्थिति, ऐरोमैटिक वलय को इलेक्ट्रॉनरागी प्रतिस्थापन के प्रति सक्रिय कर देती है एवं अनुनादी प्रभाव के कारण आने वाले समूह को ऑर्थो तथा पैरा स्थितियों की ओर निर्दिष्ट करती है। NaOH की उपस्थिति में फ़ीनॉल, फ़ीनॉक्साइड आयन देता है जो फ़ीनॉल से अधिक अभिक्रियाशील होता है। अतः, क्षारीय माध्यम में फ़ीनॉल कोल्बे अभिक्रिया देती है।

(क) निम्नलिखित अभिक्रियाओं में प्रयुक्त अभिकर्मकों के नाम लिखिए : 2

(i) प्राथमिक ऐल्कोहॉल का ऐल्डिहाइड में ऑक्सीकरण

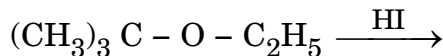
(ii) प्राथमिक ऐल्कोहॉल का कार्बोक्सिलिक अम्ल में ऑक्सीकरण

(ख) कोल्बे अभिक्रिया में सम्मिलित अभिक्रिया लिखिए। 1

(ग) (i) तृतीयक ऐल्कोहॉल ऑक्सीकरण के लिए प्रतिरोधी क्यों होते हैं ? 1

#### अथवा

(ग) (ii) निम्नलिखित अभिक्रिया के उत्पाद लिखिए : 1



30. जैव-तंत्र अनेक जटिल जैव अणुओं जैसे कार्बोहाइड्रेट, प्रोटीन, न्यूक्लीक अम्ल, लिपिड, आदि से मिलकर बनते हैं। प्रोटीन और कार्बोहाइड्रेट हमारे भोजन के आवश्यक अवयव हैं। इसके अतिरिक्त कुछ सरल अणु जैसे विटामिन और खनिज लवण भी जीवों की कार्य-प्रणालियों में महत्वपूर्ण भूमिका निभाते हैं। सभी प्रोटीन  $\alpha$ -ऐमीनो अम्लों के बहुलक होते हैं। आण्विक आकृति के आधार पर प्रोटीनों को दो वर्गों में वर्गीकृत किया जा सकता है — रेशेदार प्रोटीन और गोलिकाकार प्रोटीन। विटामिन आहार में आवश्यक सहायक भोज्य कारक हैं। इन्हें वसा-विलेय तथा जल-विलेय में वर्गीकृत किया जाता है। विटामिनों की कमी से अनेक रोग हो जाते हैं। न्यूक्लीक अम्ल न्यूक्लिओटाइडों के बहुलक हैं जो एक क्षारक, एक पेन्टोस शर्करा तथा एक फ़ॉस्फ़ेट अर्धांश से मिलकर बनते हैं। न्यूक्लीक अम्ल दो प्रकार के होते हैं — DNA और RNA। न्यूक्लीक अम्ल जनक से संतति में गुणों के स्थानांतरण के लिए जिम्मेदार होते हैं।

(क) प्रोटीनों और न्यूक्लीक अम्लों की मूल संरचनात्मक इकाइयों के नाम लिखिए। आप रेशेदार और गोलिकाकार प्रोटीन में उनकी संरचनाओं के आधार पर कैसे अंतर कर सकते हो ? 2





### SECTION D

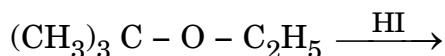
The following questions are case-based questions. Read the case carefully and answer the questions that follow.

**29.** Alcohols have higher boiling points than other compounds, namely hydrocarbons, ethers and haloalkanes of comparable molecular masses. On oxidation, primary alcohols yield aldehydes with mild oxidizing agents and carboxylic acids with strong oxidizing agents. Secondary alcohols yield ketones on oxidation while tertiary alcohols are resistant to oxidation. Ethers may be prepared by dehydration of alcohols and Williamson synthesis. The C – O bond in ethers can be cleaved by hydrogen halides. The presence of –OH group in phenols activates the aromatic ring towards electrophilic substitution and directs the incoming group to ortho and para positions due to resonance effect. In presence of NaOH, phenol generates phenoxide ion which is even more reactive than phenol. Thus, in alkaline medium, phenol undergoes Kolbe's reaction.

- |  |   |
|--|---|
| (a) Name the reagents used in the following reactions :    | 2 |
| (i) Oxidation of a primary alcohol to aldehyde             |   |
| (ii) Oxidation of a primary alcohol to carboxylic acid     |   |
| (b) Write the reaction involved in Kolbe's reaction.       | 1 |
| (c) (i) Why are tertiary alcohols resistant to oxidation ? | 1 |

**OR**

- |   |   |
|---|---|
| (c) (ii) Write the products of the following reaction : | 1 |
|---|---|



**30.** Living systems are made up of various complex biomolecules like carbohydrates, proteins, nucleic acids, lipids, etc. Proteins and carbohydrates are essential constituents of our food. In addition, some simple molecules like vitamins and mineral salts also play an important role in the functions of organisms. All proteins are polymers of  $\alpha$ -amino acids. Proteins can be classified into two types on the basis of their molecular shape — Fibrous and Globular proteins. Vitamins are accessory food factors required in the diet. They are classified as fat-soluble and water-soluble. Deficiency of vitamins leads to many diseases. Nucleic acids are the polymers of nucleotides which in turn consist of a base, a pentose sugar and phosphate moiety. There are two types of nucleic acids — DNA and RNA. Nucleic acids are responsible for the transfer of characters from parents to offsprings.

- |  |   |
|--|---|
| (a) Write the name of basic building units of proteins and nucleic acids. How can you differentiate between Fibrous and Globular proteins on the basis of their structures ? | 2 |
|--|---|





- (ख) (i) जब DNA के थायमीन युक्त न्यूक्लिओटाइड का जल-अपघटन किया जाए तो कौन-कौन से उत्पाद बनेंगे ? 1
- अथवा**
- (ख) (ii) DNA और RNA के बीच एक संरचनात्मक अंतर लिखिए। 1
- (ग) वसा-विलेय विटामिन और जल-विलेय विटामिन प्रत्येक का एक-एक उदाहरण दीजिए। 1

### खण्ड ड

31. (क) (i) अर्ध-सेल का इलेक्ट्रोड विभव परिकलित कीजिए जब  $25^\circ\text{C}$  पर जिंक इलेक्ट्रोड  $0.01\text{ M ZnSO}_4$  विलयन में डूबा हुआ है।  
दिया गया है :  $E_{\text{Zn}^{2+}/\text{Zn}}^0 = -0.76\text{ V}$   
[ $\log 10 = 1$ ]
- (ii) शुष्क सेल में होने वाली एनोड, कैथोड एवं समग्र अभिक्रिया लिखिए।
- (iii) साम्य स्थिरांक ( $K_c$ ),  $E_{\text{सेल}}^0$  से तो संबंधित है, परन्तु  $E_{\text{सेल}}$  से नहीं। क्यों ? 2+2+1=5
- अथवा**
- (ख) (i)  $0.001\text{ M}$  ऐसीटिक अम्ल विलयन की चालकता  $3.905 \times 10^{-5}\text{ S cm}^{-1}$  है। इसकी मोलर चालकता एवं वियोजन मात्रा ( $\alpha$ ) परिकलित कीजिए।  
दिया गया है :  $\lambda_{\text{CH}_3\text{COO}^-}^0 = 40.9\text{ S cm}^2\text{ mol}^{-1}$   
 $\lambda_{\text{H}^+}^0 = 349.6\text{ S cm}^2\text{ mol}^{-1}$
- (ii) निम्नलिखित के लिए कारण दीजिए :  
(I) मर्क्युरी सेल अपनी संपूर्ण कार्य अवधि में स्थिर वोल्टता क्यों प्रदान करता है ?  
(II) गैल्वैनी सेल में लवण सेतु का उपयोग करना क्यों आवश्यक है ? 5
32. (क) (i) कारण देते हुए वर्णन कीजिए कि निम्नलिखित युगलों में से कौन-सा इंगित गुणधर्म दर्शाता है :  
(I) Fe अथवा Cu – उच्चतर गलनांक  
(II)  $\text{Ti}^{3+}$  अथवा  $\text{Sc}^{3+}$  – जलीय विलयन में रंगीन  
(III) Cr अथवा Zn – उच्चतर तृतीय आयनन एन्थैल्पी
- (ii) अम्लीय माध्यम में  $\text{MnO}_4^-$  की निम्नलिखित के साथ ऑक्सीकारक क्रिया के लिए आयनिक समीकरण लिखिए :  
(I)  $\text{Fe}^{2+}$  आयन  
(II)  $\text{I}^-$  आयन 3+2=5

अथवा





- (b) (i) What products would be formed when a nucleotide from DNA containing thymine is hydrolyzed ? 1
- OR**
- (b) (ii) Write one structural difference between DNA and RNA. 1
- (c) Give one example each of a fat-soluble vitamin and a water-soluble vitamin. 1

### SECTION E

- 31.** (a) (i) Calculate the electrode potential of a half-cell for zinc electrode dipping in 0.01 M ZnSO<sub>4</sub> solution at 25°C.  
 Given :  $E_{\text{Zn}^{2+}/\text{Zn}}^{\circ} = -0.76 \text{ V}$   
 [log 10 = 1]
- (ii) Write anode, cathode and overall reaction involved in dry cell.
- (iii) Equilibrium constant ( $K_c$ ) is related to  $E_{\text{cell}}^{\circ}$ , but not to  $E_{\text{cell}}$ .  
 Why ? 2+2+1=5
- OR**
- (b) (i) The conductivity of 0.001 M solution of acetic acid is  $3.905 \times 10^{-5} \text{ S cm}^{-1}$ . Calculate its molar conductivity and degree of dissociation ( $\alpha$ ).  
 Given :  $\lambda_{\text{CH}_3\text{COO}^-}^{\circ} = 40.9 \text{ S cm}^2 \text{ mol}^{-1}$   
 $\lambda_{\text{H}^+}^{\circ} = 349.6 \text{ S cm}^2 \text{ mol}^{-1}$
- (ii) Give reasons for the following :
- (I) Why does a mercury cell deliver a constant voltage for its entire life ?
- (II) Why is it necessary to use salt bridge in a galvanic cell ? 5
- 32.** (a) (i) Describe giving reason which one of the following pairs has the property indicated :
- (I) Fe or Cu – higher melting point
- (II) Ti<sup>3+</sup> or Sc<sup>3+</sup> – coloured in aqueous solution
- (III) Cr or Zn – higher third ionisation enthalpy
- (ii) Write the ionic equations for the oxidizing action of MnO<sub>4</sub><sup>-</sup> in acidic medium with :
- (I) Fe<sup>2+</sup> ion
- (II) I<sup>-</sup> ion 3+2=5

**OR**





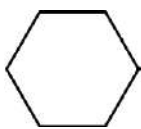
- (ख) (i) जब एक काले-भूरे रंग के ठोस (A) को वायु की उपस्थिति में KOH के साथ संगलित किया जाता है, तो एक गाढ़े हरे रंग का यौगिक (B) प्राप्त होता है जो क्षारीय माध्यम में विद्युत-अपघटनी ऑक्सीकरण द्वारा गहरे बैंगनी रंग का यौगिक (C) देता है। (A), (B) और (C) को पहचानिए और सम्मिलित अभिक्रियाएँ लिखिए।
- (ii) क्या होता है जब हरे रंग के यौगिक (B) के अम्लीय विलयन को कुछ समय के लिए रखा जाता है ? सम्मिलित समीकरण भी लिखिए। इस प्रकार की अभिक्रिया को क्या कहा जाता है ?

3+2=5

33. (क) (i) उत्पाद/उत्पादों को लिखिए जब :
- (I) शुष्क HCl गैस की उपस्थिति में एक मोल एथेनैल को 1 मोल CH<sub>3</sub>OH के साथ अभिक्रियित किया जाता है।
- (II) बेन्ज़ैल्डिहाइड को सांद्र NaOH के साथ अभिक्रियित किया जाता है।
- (III) P<sub>2</sub>O<sub>5</sub> की उपस्थिति में एथेनॉइक अम्ल को गरम किया जाता है।
- (ii) एथेनैल और प्रोपेनैल के मध्य विभेद करने के लिए एक सरल रासायनिक परीक्षण लिखिए।
- (iii) ऐलिल ऐल्कोहॉल को प्रोपीनैल में रूपांतरित करने के लिए अभिकर्मक का नाम लिखिए।

3+1+1=5

अथवा

- (ख) (i) ऐसीटोन के सेमीकार्बेज़ोन की संरचना बनाइए।
- (ii) ऐल्डिहाइडों और कीटोनों के  $\alpha$ -हाइड्रोजन परमाणुओं की प्रकृति अम्लीय क्यों होती है ?
- (iii) निम्नलिखित यौगिकों को उनकी HCN के प्रति अभिक्रियाशीलता के बढ़ते हुए क्रम में व्यवस्थित कीजिए :
- CH<sub>3</sub>COCH<sub>3</sub>, CH<sub>3</sub>CHO, (CH<sub>3</sub>)<sub>3</sub>C - C(=O) - CH<sub>3</sub>
- (iv) ईटार्ड अभिक्रिया में सम्मिलित अभिक्रिया लिखिए।
- (v) उत्पाद लिखिए जब  CHO, Zn(Hg)/सांद्र HCl के साथ अभिक्रिया करता है।

5×1=5



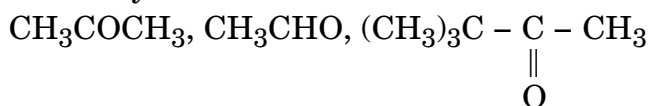



- (b) (i) A black-brown coloured solid (A) when fused with KOH in the presence of air, produces a dark green coloured compound (B) which on electrolytic oxidation in alkaline medium gives a dark purple coloured compound (C). Identify (A), (B) and (C). Write the reactions involved.
- (ii) What happens when an acidic solution of the green compound (B) is allowed to stand for some time? Also write the equation involved. What is this type of reaction called?  $3+2=5$

33. (a) (i) Write the product(s) when :
- (I) One mol of ethanal is treated with 1 mol of  $\text{CH}_3\text{OH}$  in the presence of dry HCl gas.
- (II) Benzaldehyde is treated with conc. NaOH.
- (III) Ethanoic acid is heated in the presence of  $\text{P}_2\text{O}_5$ .
- (ii) Write a simple chemical test to distinguish between Ethanal and Propanal.
- (iii) Write the name of the reagent to transform Allyl alcohol to Propenal.  $3+1+1=5$

**OR**

- (b) (i) Draw the structure of the semicarbazone of acetone.
- (ii) Why are  $\alpha$ -hydrogen atoms of aldehydes and ketones acidic in nature?
- (iii) Arrange the following compounds in increasing order of their reactivity towards HCN :



- (iv) Write the reaction involved in Etard reaction.
- (v) Write the product when  reacts with  $\text{Zn(Hg)/conc. HCl}$ .  $5 \times 1 = 5$

