

Series : QRP1S



SET ~ 3



रोल नं.

Roll No.

--	--	--	--	--	--	--	--

प्रश्न-पत्र कोड
Q.P. Code

64/1/3



भूगोल (सैद्धान्तिक)
GEOGRAPHY (Theory)

निर्धारित समय : 3 घण्टे

Time allowed : 3 hours

अधिकतम अंक : 70

Maximum Marks : 70

नोट/ NOTE :

{ }

- (I) कृपया जाँच कर लें कि इस प्रश्न-पत्र में मुद्रित पृष्ठ 23 (2 मानचित्र सहित) हैं ।
Please check that this question paper contains 23 printed pages
(Including 2 Maps).
- (II) प्रश्न-पत्र में दाहिने हाथ की ओर दिए गए प्रश्न-पत्र कोड को परीक्षार्थी उत्तर-पुस्तिका के मुख-पृष्ठ पर लिखें ।
Q.P. Code given on the right hand side of the question paper should be
written on the title page of the answer-book by the candidate.
- (III) कृपया जाँच कर लें कि इस प्रश्न-पत्र में 30 प्रश्न हैं ।
Please check that this question paper contains 30 questions.
- (IV) कृपया प्रश्न का उत्तर लिखना शुरू करने से पहले, उत्तर-पुस्तिका में यथा स्थान पर प्रश्न का क्रमांक अवश्य लिखें ।
Please write down the serial number of the question in the answer-
book at the given place before attempting it.
- (V) इस प्रश्न-पत्र को पढ़ने के लिए 15 मिनट का समय दिया गया है । प्रश्न-पत्र का वितरण पूर्वाह्न में 10.15 बजे किया जाएगा । 10.15 बजे से 10.30 बजे तक परीक्षार्थी केवल प्रश्न-पत्र को पढ़ेंगे और इस अवधि के दौरान वे उत्तर-पुस्तिका पर कोई उत्तर नहीं लिखेंगे ।
15 minute time has been allotted to read this question paper. The
question paper will be distributed at 10.15 a.m. From 10.15 a.m. to
10.30 a.m., the candidates will read the question paper only and will
not write any answer on the answer-book during this period.



सामान्य निर्देश :

निम्नलिखित निर्देशों को ध्यानपूर्वक पढ़िए और उनका पालन कीजिए :

- (i) इस प्रश्न-पत्र में कुल 30 प्रश्न हैं। सभी प्रश्न अनिवार्य हैं।
- (ii) प्रश्न-पत्र पाँच खण्डों में विभाजित है – खण्ड-क, ख, ग, घ एवं ङ।
- (iii) खण्ड – क : प्रश्न संख्या 1 से 17 तक बहुविकल्पीय प्रकार के प्रश्न हैं। प्रत्येक प्रश्न 1 अंक का है।
- (iv) खण्ड – ख : प्रश्न संख्या 18 एवं 19 स्रोत-आधारित प्रश्न हैं। प्रत्येक प्रश्न 3 अंकों का है।
- (v) खण्ड – ग : प्रश्न संख्या 20 से 23 तक लघु-उत्तरीय प्रकार के प्रश्न हैं। प्रत्येक प्रश्न 3 अंकों का है। इन प्रश्नों का उत्तर 80 से 100 शब्दों में लिखा जाना चाहिए।
- (vi) खण्ड – घ : प्रश्न संख्या 24 से 28 तक दीर्घ-उत्तरीय प्रकार के प्रश्न हैं। प्रत्येक प्रश्न 5 अंकों का है। इन प्रश्नों का उत्तर 120 से 150 शब्दों में लिखा जाना चाहिए।
- (vii) खण्ड – ङ : प्रश्न संख्या 29 व 30 मानचित्र-आधारित प्रश्न हैं। प्रत्येक प्रश्न 5 अंकों का है।
- (viii) इसके अतिरिक्त, ध्यान दें कि दृष्टिबाधित परीक्षार्थियों के लिए चित्र तथा मानचित्र आदि आधारित प्रश्नों के स्थान पर एक अन्य प्रश्न दिया गया है। इन प्रश्नों के उत्तर केवल दृष्टिबाधित परीक्षार्थी ही लिखें।
- (ix) प्रश्न-पत्र में समग्र विकल्प नहीं दिया गया है। यद्यपि, कुछ प्रश्नों में आंतरिक विकल्प का चयन दिया गया है।

खण्ड – क

प्रश्न संख्या 1 से 17 बहुविकल्पीय प्रकार के प्रश्न हैं। (17 × 1 = 17)

1. निम्नलिखित में से कौन-सा शहर दो रेलमंडलों के मुख्यालय के रूप में सेवा प्रदान करता है ? 1
(A) कोलकाता (B) चेन्नई
(C) जयपुर (D) बिलासपुर
2. उन राज्यों के सही समूह का चयन कीजिए जहाँ बहुसंख्यकों द्वारा द्रविड़ भाषा बोली जाती है। 1
(A) तमिलनाडु, केरल और महाराष्ट्र (B) कर्नाटक, महाराष्ट्र और आंध्र प्रदेश
(C) तमिलनाडु, केरल और कर्नाटक (D) आंध्र प्रदेश, तेलंगाना और मध्य प्रदेश
3. निम्नलिखित किस देश में 'कर्तन एवं दहन कृषि' को 'मिल्पा' के नाम से जाना जाता है ? 1
(A) मेक्सिको (B) मलेशिया
(C) इंडोनेशिया (D) भारत



}

General Instructions :**Read the following instructions carefully and follow them :**

- (i) This question paper contains **30** questions. All questions are **compulsory**.
- (ii) Question paper is divided into **five** Sections – **Section A, B, C, D and E**.
- (iii) **Section A** - Question Nos. **1 to 17** are Multiple Choice (MCQ) type questions. Each question carries **1** mark.
- (iv) **Section B** - Question Nos. **18 and 19** are Source based questions. Each question carries **3** marks.
- (v) **Section C** - Question Nos. **20 to 23** are Short Answer (SA) type questions. Each question carries **3** marks. Answer to these questions shall be written in **80 to 100** words.
- (vi) **Section D** - Question Nos. **24 to 28** are Long Answer (LA) type questions. Each question carries **5** marks. Answer to these questions shall be written in **120 to 150** words.
- (vii) **Section E** - Question Nos. **29 & 30** are Map based questions. Each question carries **5** marks.
- (viii) In addition to this, **NOTE** that a separate question has been provided for Visually Impaired Candidates in lieu of questions having visual inputs, map etc. Such questions are to be attempted by Visually Impaired Candidates only.
- (ix) There is no overall choice given in the question paper. However, an internal choice has been provided in a few questions.

SECTION – AQuestion Nos. **1 to 17** are Multiple Choice type questions. (**17 × 1 = 17**)

1. Which one of the following cities serve as headquarter of two railway zones? **1**
(A) Kolkata (B) Chennai
(C) Jaipur (D) Bilaspur
2. Choose the right group of states where Dravidian language is spoken majorly. **1**
(A) Tamil Nadu, Kerala and Maharashtra
(B) Karnataka, Maharashtra and Andhra Pradesh
(C) Tamil Nadu, Kerala and Karnataka
(D) Andhra Pradesh, Telangana and Madhya Pradesh
3. In which one of the following countries, the 'slash and burn cultivation' is known as 'Milpa' ? **1**
(A) Mexico (B) Malaysia
(C) Indonesia (D) India



{

4. 'आंत्रपो पत्तन' से संबंधित सही विकल्प का चयन कीजिए : 1
- (A) मेंफिस, कोपेनहेगेन, त्रिपोली (B) मेंफिस, सिंगापुर, मैनचेस्टर
(C) रोटर्डम, कोपेनहेगेन, सिंगापुर (D) रोटर्डम, त्रिपोली, मैनचेस्टर

5. 'विकास' की अवधारणा के संबंध में निम्नलिखित में से कौन से कथन सही हैं ? उपयुक्त विकल्प का चयन कीजिए । 1

- I. विकास का अर्थ है जीवन में सकारात्मक परिवर्तन ।
II. विकास वह है जब सकारात्मक वृद्धि होती है ।
III. विकास वह है जब मात्रा अधिक होती है ।
IV. विकास सदैव मूल्य के सापेक्ष होता है ।

विकल्प :

- (A) केवल I, II और III सही हैं ।
(B) केवल I, II और IV सही हैं ।
(C) केवल I, III और IV सही हैं ।
(D) केवल II, III और IV सही हैं ।

6. स्तंभ-I का सही मिलान स्तंभ-II से कीजिए और उपयुक्त विकल्प का चयन कीजिए । 1

स्तंभ-I
(उपागम)

स्तंभ-II
(विशेषता)

- | | |
|---------------------------|---|
| a. आय उपागम | i. अंतर्राष्ट्रीय श्रम संगठन द्वारा प्रस्तावित । |
| b. कल्याण उपागम | ii. स्वास्थ्य, शिक्षा और संसाधनों तक पहुँच, मुख्य घटक हैं । |
| c. आधारभूत आवश्यकता उपागम | iii. यह सबसे पुराने उपागमों में से एक है । |
| d. क्षमता उपागम | iv. मानव लक्षित लाभार्थी के रूप में । |

विकल्प :

- | | a | b | c | d |
|-----|-----|----|-----|-----|
| (A) | ii | i | iv | iii |
| (B) | ii | i | iii | iv |
| (C) | iii | iv | ii | i |
| (D) | iii | iv | i | ii |

7. निम्नलिखित में से सही सुमेलित युग्म का चयन कीजिए : 1

- | | | |
|------------------------|---|--------------------|
| (A) लाल कॉलर श्रमिक | – | सरकारी सेवक |
| (B) स्वर्ण कॉलर श्रमिक | – | पर्यावरणीय सलाहकार |
| (C) गुलाबी कॉलर श्रमिक | – | बिजली मिस्त्री |
| (D) श्वेत कॉलर श्रमिक | – | उपचारिका (नर्स) |



}

4. Choose the correct option related to 'entrepot port' : 1
- (A) Memphis, Copenhagen, Tripoli
(B) Memphis, Singapore, Manchester
(C) Rotterdam, Copenhagen, Singapore
(D) Rotterdam, Tripoli, Manchester

5. Which of the following statements related to the concept of 'development' are correct ? Choose the appropriate option. 1
- I. Development means positive change in life.
II. When positive growth is there, it is development.
III. When quantity is greater, it is development.
IV. Development is always relative to value.

Options :

- (A) Only I, II and III are correct.
(B) Only I, II and IV are correct.
(C) Only I, III and IV are correct.
(D) Only II, III and IV are correct.
6. Match column-I with column-II correctly and choose the appropriate option : 1

Column-I
(Approach)

Column-II
(Characteristics)

- | | |
|-------------------------|---|
| a. Income Approach | i. Proposed by International Labour Organisation |
| b. Welfare Approach | ii. Health, education and access to resources – key factors |
| c. Basic Needs Approach | iii. It is one of the oldest approach |
| d. Capability Approach | iv. Human being – targeted beneficiaries |

Options :

- | | a | b | c | d |
|-----|----------|----------|----------|----------|
| (A) | ii | i | iv | iii |
| (B) | ii | i | iii | iv |
| (C) | iii | iv | ii | i |
| (D) | iii | iv | i | ii |

7. Choose the correctly matched pair from the following : 1
- (A) Red collar worker – Civil servants
(B) Gold collar worker – Environmental consultants
(C) Pink collar worker – Electricians
(D) White collar worker – Nurses



{

8. ध्वनि की प्रबलता को मापने वाली इकाई कहलाती है – 1
(A) मिलीमीटर (B) सेंटीमीटर
(C) डेसीमल (D) डेसिबल
9. निम्नलिखित में से कौन-सी भू-निम्नीकरण की प्राकृतिक प्रक्रिया है ? 1
(A) खनन क्रियाकलाप (B) अवनलिका (गली) अपरदन
(C) औद्योगिक अपशिष्ट (D) स्थानांतरित कृषि
10. निम्नलिखित में से कौन-सी प्रावस्था भारत की जनसंख्या वृद्धि में धीरे-धीरे मंद गति से घटने से संबंधित है ? 1
(A) प्रावस्था I (B) प्रावस्था II
(C) प्रावस्था III (D) प्रावस्था IV
11. 'पूर्व-पश्चिम गलियारा' निम्नलिखित किन शहरों के समूह को जोड़ता है ? 1
(A) कांडला से सिल्चर (B) कांडला से शिलांग
(C) पोरबंदर से शिलांग (D) पोरबंदर से सिल्चर
12. भारत में 'चिकित्सा पर्यटन' के संदर्भ में निम्नलिखित में से कौन सा कथन सही है ? 1
(A) पर्यटक विशेष रूप से सस्ती चिकित्सा सुविधाओं को प्राप्त करने के लिए पर्यटन करते हैं।
(B) चिकित्सक शल्यक्रिया के लिए विकसित देशों में पर्यटन करते हैं।
(C) चिकित्सक मरीजों का इलाज करने हेतु यात्रा करते हैं।
(D) यात्रा पर गए पर्यटकों को बीमार होने पर इलाज मिलता है।
13. नीचे दो कथन दिए गए हैं। ये अभिकथन (A) और कारण (R) हैं। दोनों कथनों को ध्यानपूर्वक पढ़िए और सही विकल्प का चयन कीजिए। 1
अभिकथन (A) : सभी विकसित देशों ने विकासशील देशों की वस्तुओं के लिए अपने बाजार खोल दिए हैं।
कारण (R) : विश्व व्यापार संगठन राष्ट्रों के मध्य व्यापार के वैश्विक नियमों को नियत करता है।
विकल्प :
(A) दोनों (A) तथा (R) सही हैं और (R), (A) की सही व्याख्या है।
(B) दोनों (A) तथा (R) सही हैं, लेकिन (R), (A) की सही व्याख्या नहीं है।
(C) (A) सही है, लेकिन (R) गलत है।
(D) (A) गलत है, लेकिन (R) सही है।



{

8. The loudness of the sound is measured in the unit known as : 1
(A) Millimeter (B) Centimeter
(C) Decimal (D) Decibel
9. Which one of the following is a natural process of land degradation ? 1
(A) Mining activities (B) Gully erosion
(C) Industrial waste (D) Shifting cultivation
10. Which one of the following phases is associated with gradual slowing down of population growth in India ? 1
(A) Phase I (B) Phase II
(C) Phase III (D) Phase IV
11. The 'East-West Corridor' connects which of the following set of cities ? 1
(A) Kandla to Silchar (B) Kandla to Shillong
(C) Porbandar to Shillong (D) Porbandar to Silchar
12. Which one of the following statements is true regarding 'medical tourism' in India ? 1
(A) Tourists travel specially for availing cheap medical facilities.
(B) Doctors travel to developed country to do surgical operation.
(C) Doctors travel to treat the patients.
(D) Tourists on trip get treated, if they fall ill.
13. Two statements are given below. They are Assertion (A) and Reason (R). Read both the statements carefully and choose the correct option : 1
Assertion (A) : All the developed countries have opened their markets for products from developing countries.
Reason (R) : World Trade Organisation deals with the global rules of trade between nations.
- Options :**
(A) Both (A) and (R) are true and (R) is the correct explanation of (A).
(B) Both (A) and (R) are true but (R) is **not** the correct explanation of (A).
(C) (A) is true but (R) is false.
(D) (A) is false but (R) is true.



14. 'तृतीयक क्रियाकलापों' के संबंध में निम्नलिखित कथनों को ध्यानपूर्वक पढ़िए और सही विकल्प का चयन कीजिए ।

1

- I. तृतीयक क्रियाकलापों में उत्पादन और सेवाओं का विनिमय दोनों सम्मिलित होते हैं ।
- II. तृतीयक क्रियाकलापों में सेवाओं का व्यावसायिक उत्पादन सम्मिलित होता है ।
- III. तृतीयक क्रियाकलाप कच्चे माल के प्रसंस्करण से प्रत्यक्ष रूप से जुड़ा है ।
- IV. तृतीयक क्रियाकलाप के उदाहरण हैं – नलसाज, चिकित्सक, प्रकाशक ।

विकल्प :

- (A) केवल I, II और III सही हैं ।
- (B) केवल I, II और IV सही हैं ।
- (C) केवल I, III और IV सही हैं ।
- (D) केवल II, III और IV सही हैं ।

निम्नलिखित तालिका का ध्यानपूर्वक अध्ययन कीजिए और प्रश्न सं. 15 से 17 तक के उत्तर लिखिए :

सबसे अधिक जनसंख्या वाले देश

क्र.सं.	देश	जनसंख्या	विश्व का %
1	भारत	1,425,775,850	17.4
2	चीन	1,409,670,000	17.2
3	संयुक्त राज्य अमेरिका	337,975,234	4.13
4	इंडोनेशिया	278,696,200	3.41
5	पाकिस्तान	229,488,994	2.80
6	नाइजीरिया	216,746,934	2.65
7	ब्राजील	219,277,799	2.68
8	बंगलादेश	168,220,000	2.06
9	मेक्सिको	128,271,248	1.57

15. निम्नलिखित में से महाद्वीपों का कौन-सा समूह तालिका में प्रतिनिधित्व नहीं करता है ? सबसे उपयुक्त विकल्प का चयन कीजिए ।

1

- (A) ऑस्ट्रेलिया और अफ्रीका
- (B) अफ्रीका और दक्षिण अमेरिका
- (C) यूरोप और दक्षिण अमेरिका
- (D) ऑस्ट्रेलिया और यूरोप



}

14. Read the following statements carefully regarding 'tertiary activities' and choose the correct option : 1

- I. Tertiary activities include both production and exchange of services.
- II. Tertiary activities involve the commercial output of services.
- III. Tertiary activities are directly involved in the processing of raw material.
- IV. The examples of tertiary activities are – plumber, doctor, publisher.

Options :

- (A) Only I, II and III are correct.
- (B) Only I, II and IV are correct.
- (C) Only I, III and IV are correct.
- (D) Only II, III and IV are correct.

Study the following table carefully and answer Question Nos. 15 to 17.

Most populous countries

Sr. No.	Country	Population	% of world
1	India	1,425,775,850	17.4
2	China	1,409,670,000	17.2
3	United States of America	337,975,234	4.13
4	Indonesia	278,696,200	3.41
5	Pakistan	229,488,994	2.80
6	Nigeria	216,746,934	2.65
7	Brazil	219,277,799	2.68
8	Bangladesh	168,220,000	2.06
9	Mexico	128,271,248	1.57

15. Which of the following set of continents is **not** represented in the table ?
Choose the most appropriate option. 1

- (A) Australia and Africa
- (B) Africa and South America
- (C) Europe and South America
- (D) Australia and Europe



{

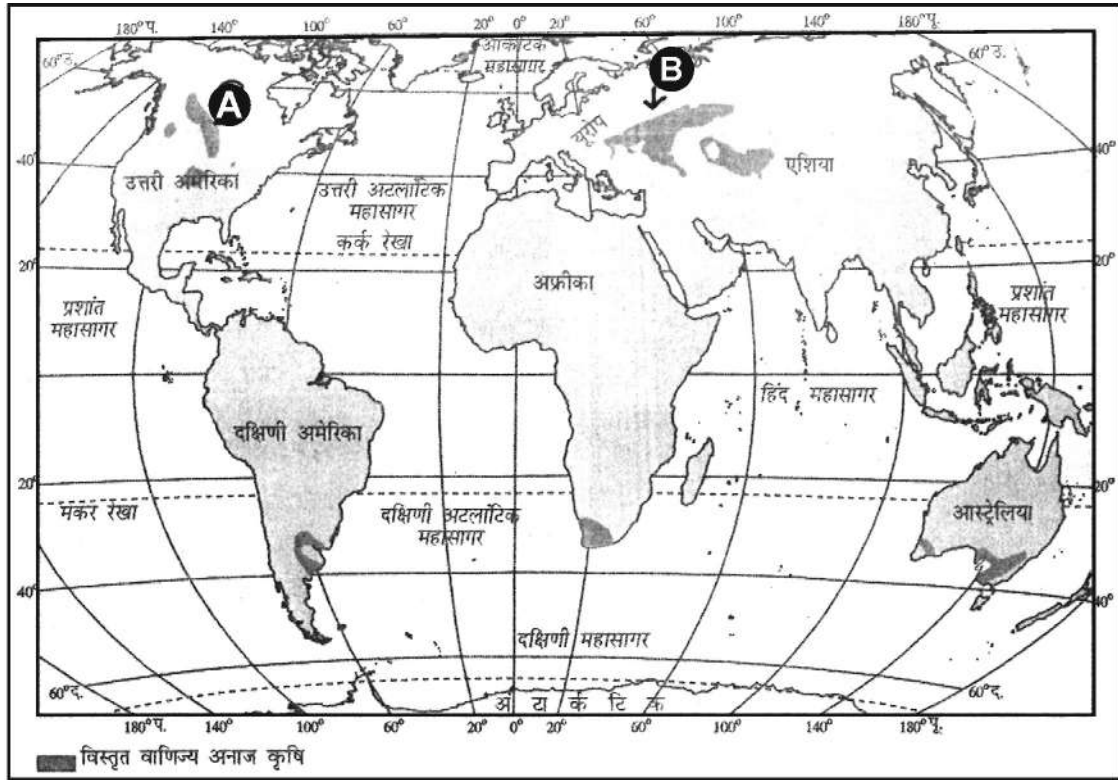
16. चीन और ब्राजील दोनों को मिलाकर विश्व जनसंख्या का कितना प्रतिशत हिस्सा है ? 1
(A) 17.88 (B) 17.58
(C) 19.88 (D) 19.58
17. कितने सूचीबद्ध देश एशिया महाद्वीप के अंतर्गत आते हैं ? 1
(A) 3 (B) 4
(C) 5 (D) 6

खण्ड - ख

प्रश्न संख्या 18 एवं 19 स्रोत-आधारित प्रश्न हैं।

(2 × 3 = 6)

18. 'विस्तृत वाणिज्यिक अनाज कृषि' के मानचित्र का ध्यानपूर्वक अध्ययन कीजिए और उसके नीचे दिए गए प्रश्नों के उत्तर लिखिए।



- (18.1) (A) के रूप में अंकित क्षेत्र का भौगोलिक नाम लिखिए। 1
- (18.2) (A) क्षेत्र में उगाई जाने वाली किन्हीं दो प्रमुख फसलों के नाम लिखिए। $\frac{1}{2} + \frac{1}{2} = 1$
- (18.3) (B) के रूप में अंकित क्षेत्र के कृषि महत्त्व को स्पष्ट कीजिए। 1

नोट : निम्नलिखित प्रश्न केवल दृष्टिबाधित परीक्षार्थियों के लिए प्रश्न संख्या 18 के स्थान पर है।

विश्व में 'विस्तृत वाणिज्यिक अनाज कृषि' की प्रमुख विशेषताओं की व्याख्या कीजिए। 3



}

16. China and Brazil together account for what percentage of the world population ? 1

- (A) 17.88 (B) 17.58
 (C) 19.88 (D) 19.58

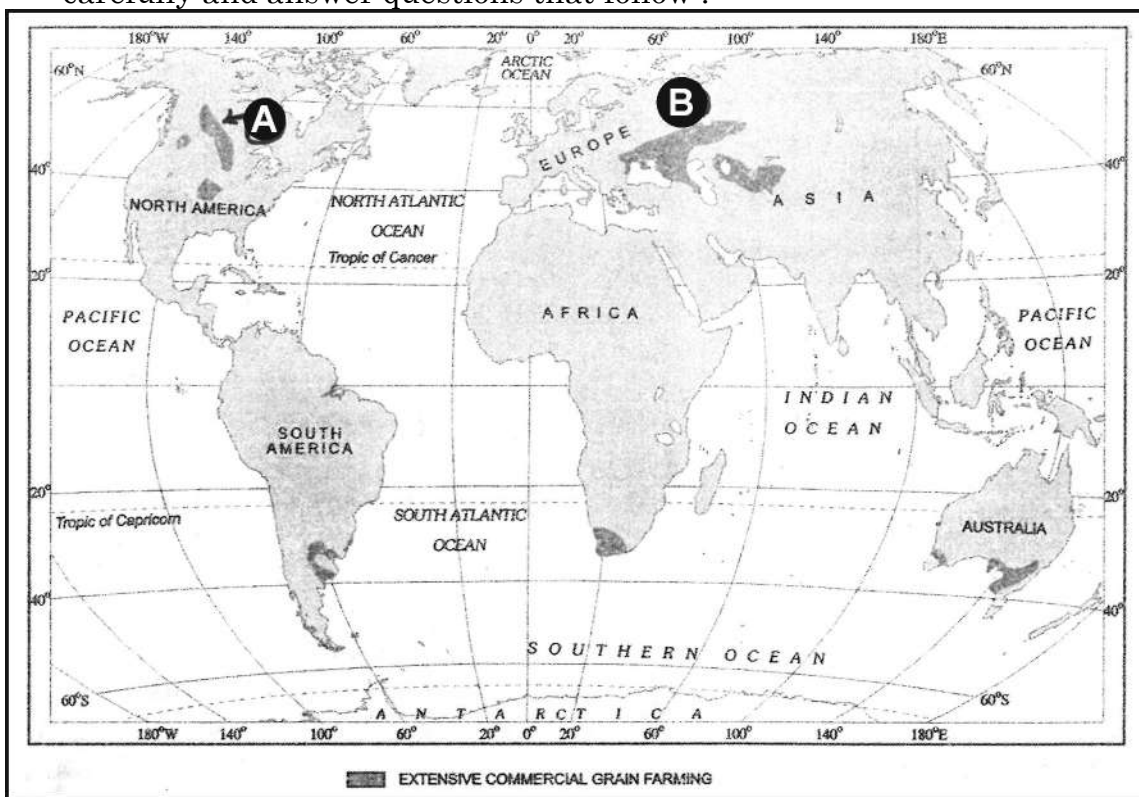
17. How many of the listed countries fall under Asian continent ? 1

- (A) 3 (B) 4
 (C) 5 (D) 6

SECTION – B

Question Nos. 18 and 19 are Source based questions : (2 × 3 = 6)

18. Study the map showing areas of ‘extensive commercial grains farming’ carefully and answer questions that follow :



(18.1) Write the geographical name of the area marked as (A) 1

(18.2) Name any two major crops grown in the region (A) $\frac{1}{2} + \frac{1}{2} = 1$

(18.3) Explain the agricultural importance of the area marked as (B) 1

Note : The following question is for the **Visually Impaired Candidates** only in lieu of Question No. 18.

Explain the main characteristics of ‘extensive commercial grain farming’ in the world. 3



}

19. दिए गए अनुच्छेद को ध्यानपूर्वक पढ़िए और उसके नीचे दिए गए प्रश्नों का उत्तर लिखिए ।

जल प्रदूषण

उत्पादन प्रक्रिया में, उद्योग अनेक अवांछित उत्पाद पैदा करते हैं जिनमें औद्योगिक कचरा, प्रदूषित अपशिष्ट जल, जहरीली गैसें, रासायनिक अवशेष, अनेक भारी धातुएँ, धूल, धुआँ आदि शामिल होता है । अधिकतर औद्योगिक कचरे को बहते जल में अथवा झीलों आदि में विसर्जित कर दिया जाता है । परिणामस्वरूप विषाक्त रासायनिक तत्व जलाशयों, नदियों तथा अन्य जल भंडारों में पहुँच जाते हैं जो इन जलों में रहने वाली जैव प्रणाली को नष्ट करते हैं । सर्वाधिक जल प्रदूषक उद्योग-चमड़ा, लुगदी व कागज, वस्त्र तथा रसायन हैं ।

- (19.1) भारत में किस प्रकार जल प्रदूषण में उद्योगों का प्रमुख योगदान है ? व्याख्या कीजिए । 1
- (19.2) जल प्रदूषण को कम करने का उपाय सुझाइए । 1
- (19.3) भारत की दो अत्यधिक प्रदूषित नदियों का उल्लेख कीजिए । $\frac{1}{2} + \frac{1}{2} = 1$

खण्ड – ग

प्रश्न संख्या 20 से 23 लघु-उत्तरीय प्रकार के प्रश्न हैं । (4 × 3 = 12)

20. 'भौतिक पर्यावरण और मानव' के बीच संबंधों की परख कीजिए । 3
21. 'मानव विकास' के स्तंभ के रूप में 'उत्पादकता' के महत्त्व की परख कीजिए । 3
22. नीचे दी गई तालिका का ध्यानपूर्वक अध्ययन कीजिए और उसके नीचे दिए गए प्रश्नों का उत्तर लिखिए ।

भारत में श्रम-शक्ति का सेक्टर-वार संघटन, 2011

संवर्ग	जनसंख्या			
	व्यक्ति	कुल श्रमिकों का %	पुरुष	स्त्री
प्राथमिक	26,30,22,473	54.6	16,54,47,075	9,75,75,398
द्वितीयक	1,83,36,307	3.8	97,75,635	85,60,672
तृतीयक	20,03,84,531	41.6	15,66,43,220	4,37,41,311

- (22.1) महिला श्रमिकों का प्राथमिक और तृतीयक संवर्ग में अंतर अधिक क्यों है ? 1
- (22.2) पुरुष श्रमिकों के प्राथमिक और तृतीयक क्षेत्रक में कम अंतर होने के कारण की व्याख्या कीजिए । 1
- (22.3) भारत की श्रम शक्ति में द्वितीयक क्षेत्रक का योगदान क्यों कम है ? 1



{

19. Read the given passage carefully and answer the questions that follow :

Water Pollution

Industries produce several undesirable products including industrial wastes, polluted waste water, poisonous gases, chemical residuals, numerous heavy metals, dust, smoke, etc. Most of the industrial wastes are disposed off in running water or lakes. Consequently, poisonous elements reach the reservoirs, rivers and other water bodies, which destroy the bio-system of these waters. Major water polluting industries are leather, pulp and paper, textiles and chemicals.

- (19.1) Explain how industries are the major contributor of water pollution in India. 1
- (19.2) Suggest the way for minimising water pollution. 1
- (19.3) Mention two rivers of India which are highly polluted. $\frac{1}{2} + \frac{1}{2} = 1$

SECTION – C

Question Nos. 20 to 23 are Short Answer type questions. (4 × 3 = 12)

20. Examine the relationships between 'physical environment and human beings'. 3
21. Examine the importance of 'productivity' as a pillar of 'human development'. 3
22. Study the following table carefully and answer the questions that follow :

Sectoral composition of workforce in India, 2011

Categories	Population			
	Persons	% to total workers	Male	Female
Primary	26,30,22,473	54.6	16,54,47,075	9,75,75,398
Secondary	1,83,36,307	3.8	97,75,635	85,60,672
Tertiary	20,03,84,531	41.6	15,66,43,220	4,37,41,311

- (22.1) Why is the large difference between primary and tertiary categories of female workers ? 1
- (22.2) Explain the reason of low variation between male workers of 'primary' and 'tertiary' sectors. 1
- (22.3) Why 'secondary sector' has low contribution in India's workforce ? 1



{ }

23. (a) भारत में नगरीय बस्तियों की मुख्य विशेषताओं की व्याख्या कीजिए । 3
- अथवा**
- (b) भारत में नगरों के विकास की व्याख्या कीजिए । 3

खण्ड – घ

प्रश्न संख्या 24 से 28 दीर्घ-उत्तरीय प्रकार के प्रश्न हैं । (5 × 5 = 25)

24. “विनिर्माण उद्योग अनेक आधारों पर वर्गीकृत किए जाते हैं ।” इस कथन के पक्ष में वर्गीकरण के प्रमुख आधारों की परख कीजिए । 5
25. (a) “सामान्यतः किसी क्षेत्र में भू-उपयोग वहाँ की आर्थिक क्रियाओं की प्रवृत्ति पर निर्भर है ।” उपयुक्त उदाहरणों सहित इस कथन की पुष्टि कीजिए । 5
- अथवा**
- (b) “भारतीय कृषि की समस्याओं में भौतिक बाधाएँ और संस्थागत अवरोध शामिल हैं ।” उपयुक्त उदाहरणों सहित इस कथन की पुष्टि कीजिए । 5
26. (a) ऊर्जा के प्रमुख स्रोत के रूप में पेट्रोलियम के महत्त्व को स्पष्ट कीजिए और भारत में इसके वितरण का वर्णन कीजिए । 3 + 2 = 5
- अथवा**
- (b) औद्योगिक कच्चे माल के रूप में लौह-अयस्क के महत्त्व को स्पष्ट कीजिए और भारत में इसके वितरण का वर्णन कीजिए । 3 + 2 = 5
27. (a) “रेलमार्ग लंबी दूरी तक स्थूल वस्तुओं और यात्रियों के लिए स्थल परिवहन का एक प्रकार है ।” इस कथन के संदर्भ में विश्व में रेलवे के महत्त्व की व्याख्या कीजिए । 5
- अथवा**
- (b) “सड़क परिवहन छोटी दूरियों के लिए रेलवे की अपेक्षा आर्थिक दृष्टि से लाभदायक है ।” इस कथन के संदर्भ में विश्व में सड़क परिवहन के महत्त्व की व्याख्या कीजिए । 5
28. (a) भारत के ‘अंतर्राष्ट्रीय व्यापार’ में वायु परिवहन की भूमिका का विश्लेषण कीजिए । 5
- अथवा**
- (b) भारत के अंतर्राष्ट्रीय व्यापार में जल परिवहन के महत्त्व का विश्लेषण कीजिए । 5



{

23. (a) Explain the main characteristics of urban settlements in India. 3

OR

- (b) Explain the evolution of towns in India. 3

SECTION – D

Question Nos. 24 to 28 are Long Answer type questions. (5 × 5 = 25)

24. “Manufacturing industries are classified on several bases.” Examine the main bases of classification in favour of the statement. 5

25. (a) “Generally land-use in a region is influenced by the nature of economic activities.” Support the statement with suitable examples. 5

OR

- (b) “The Indian agricultural problems have physical constraints and institutional hindrances.” Support the statement with suitable examples. 5

26. (a) Explain the significance of petroleum as major source of energy and describe its distribution in India. 3 + 2 = 5

OR

- (b) Explain the significance of iron-ore as industrial raw material and describe its distribution in India. 3 + 2 = 5

27. (a) “Railway is the mode of land transport for bulky goods and passengers over long distances.” In the context of this statement, explain the significance of railways in the world. 5

OR

- (b) “Road transport is the most economical for short distances compared to railway.” In the context of this statement, explain the significance of road transport in the world. 5

28. (a) Analyse the role of air transport in ‘international trade’ of India. 5

OR

- (b) Analyse the importance of water transport in ‘international trade’ of India. 5



{

खण्ड – ड

प्रश्न संख्या 29 एवं 30 मानचित्र-आधारित प्रश्न हैं ।

(2 × 5 = 10)

29. दिए गए विश्व के राजनीतिक रेखा-मानचित्र में सात भौगोलिक विशेषताओं को A, B, C, D, E, F और G के रूप में अंकित किया गया है । निम्नलिखित सूचनाओं की सहायता से किन्हीं पाँच की पहचान कीजिए और उनके सही नाम समीप खींची गई रेखा पर लिखिए । **5 × 1 = 5**
- A. पार-साइबेरियन रेलमार्ग का एक टर्मिनल स्टेशन
B. एक प्रमुख समुद्री पत्तन
C. एक प्रमुख वायु पत्तन
D. एक अंतर्राष्ट्रीय नौ परिवहन नहर
E. 'निर्वाहन संग्रहण' का एक क्षेत्र
F. 'वाणिज्यिक पशुधन पालन' का एक क्षेत्र
G. 'डेरी कृषि' का एक क्षेत्र
- नोट :** निम्नलिखित प्रश्न केवल दृष्टिबाधित परीक्षार्थियों के लिए प्रश्न संख्या 29 के स्थान पर हैं ।
किन्हीं पाँच के उत्तर लिखिए । **5 × 1 = 5**
- 29.1 पार-साइबेरियन रेल लाइन के सबसे पश्चिमी टर्मिनल स्टेशन का नाम लिखिए ।
29.2 दक्षिण अमेरिका के पश्चिमी तट पर स्थित किसी एक प्रमुख समुद्री पत्तन का उल्लेख कीजिए ।
29.3 केन्या के एक अंतर्राष्ट्रीय वायु पत्तन का उल्लेख कीजिए ।
29.4 अटलांटिक और प्रशांत महासागरों को जोड़ने वाली नौ परिवहन नहर का नाम लिखिए ।
29.5 अफ्रीका में 'निर्वाहन संग्रहण' के एक प्रमुख क्षेत्र का उल्लेख कीजिए ।
29.6 संयुक्त राज्य अमेरिका में 'वाणिज्य पशुधन पालन' के एक प्रमुख क्षेत्र का नाम लिखिए ।
29.7 उत्तर अमेरिका के एक प्रमुख 'डेरी कृषि' क्षेत्र का नाम लिखिए ।
30. दिए गए भारत के राजनीतिक रेखा-मानचित्र पर निम्नलिखित सात विशेषताओं में से किन्हीं पाँच को उपयुक्त चिह्नों से दर्शाइए और उनके नाम लिखिए । **5 × 1 = 5**
- 30.1 सर्वाधिक जनसंख्या घनत्व वाला राज्य (2011)
30.2 चाय उत्पादन में अग्रणी राज्य
30.3 दक्षिणी छत्तीसगढ़ में लौह-अयस्क खनन का एक क्षेत्र
30.4 ओडिशा में बॉक्साइट खनन का एक प्रमुख क्षेत्र
30.5 उत्तर प्रदेश में एक तेल शोधन कारखाना
30.6 कच्छ खाड़ी के शीर्ष पर स्थित एक प्रमुख समुद्री पत्तन
30.7 पंजाब में एक अंतर्राष्ट्रीय वायु पत्तन



}

SECTION – EQuestion Nos. **29** and **30** are Map based questions. **(2 × 5 = 10)**

29. In the given political outline map of the world, seven geographical features have been marked as A, B, C, D, E, F and G. Identify any **five** of them with the help of following information and write their correct names on the lines drawn near them : **5 × 1 = 5**

- A. A terminal station of Trans-Siberian Railway
- B. A major sea port
- C. A major air port
- D. An international shipping canal
- E. An area of 'subsistence gathering'
- F. An area of 'commercial livestock rearing'
- G. An area of 'dairy farming'

Note : The following questions are for the **Visually Impaired Candidates** only in lieu of Question No. **29**. Attempt any **five**. **5 × 1 = 5**

- 29.1 Name the westernmost terminal station of Trans-Siberian Railway.
 - 29.2 Mention a major sea port on the western coast of South America.
 - 29.3 Mention an international airport of Kenya.
 - 29.4 Name the shipping canal joining Pacific and Atlantic Oceans.
 - 29.5 Mention one major region of 'subsistence gathering' in Africa.
 - 29.6 Name a major area of 'commercial livestock rearing' in United States of America.
 - 29.7 Name the major area of 'dairy farming' in North America.
30. On the given political outline map of India, locate and label any **five** of the following seven geographical features with appropriate symbols : **5 × 1 = 5**
- 30.1 A state with the highest density of population (2011).
 - 30.2 A state leading in the production of tea.
 - 30.3 An iron-ore mining area in southern Chhattisgarh.
 - 30.4 A major area of bauxite mining in Odisha.
 - 30.5 An oil refinery in Uttar Pradesh.
 - 30.6 A major seaport located at the head of Gulf of Kutch.
 - 30.7 An international airport in Punjab.



{

नोट : निम्नलिखित प्रश्न केवल दृष्टिबाधित परीक्षार्थियों के लिए प्रश्न संख्या 30 के स्थान पर हैं। किन्हीं पाँच के उत्तर लिखिए।

 $5 \times 1 = 5$

- 30.1 सर्वाधिक जनसंख्या घनत्व (2011) वाले राज्य का नाम लिखिए।
 - 30.2 कौन-सा राज्य चाय उत्पादन में अग्रणी है ?
 - 30.3 छत्तीसगढ़ में किसी एक लौह-अयस्क खनन क्षेत्र का नाम लिखिए।
 - 30.4 ओडिशा में एक बॉक्साइट खनन क्षेत्र का उल्लेख कीजिए।
 - 30.5 उत्तर प्रदेश के उस स्थान का नाम लिखिए जहाँ एक तेल शोधन कारखाना स्थित है।
 - 30.6 कच्छ खाड़ी के शीर्ष पर स्थित एक प्रमुख समुद्री पत्तन का नाम लिखिए।
 - 30.7 उस स्थान का नाम लिखिए जहाँ पंजाब में एक अंतर्राष्ट्रीय वायु पत्तन स्थित है।
-



{

Note : The following questions are for the visually impaired candidates only in lieu of Question No. **30**. Attempt any **five**. **5 × 1 = 5**

- 30.1 Name the state with the highest density of population (2011).
 - 30.2 Which state is leading in tea production ?
 - 30.3 Name any one iron-ore mining area in Chhattisgarh.
 - 30.4 Mention one bauxite mining area in Odisha.
 - 30.5 Name the place where oil refinery is located in Uttar Pradesh.
 - 30.6 Name the major sea port located on the head of Gulf of Kuchchh.
 - 30.7 Name the place where an international airport is located in Punjab.
-



}

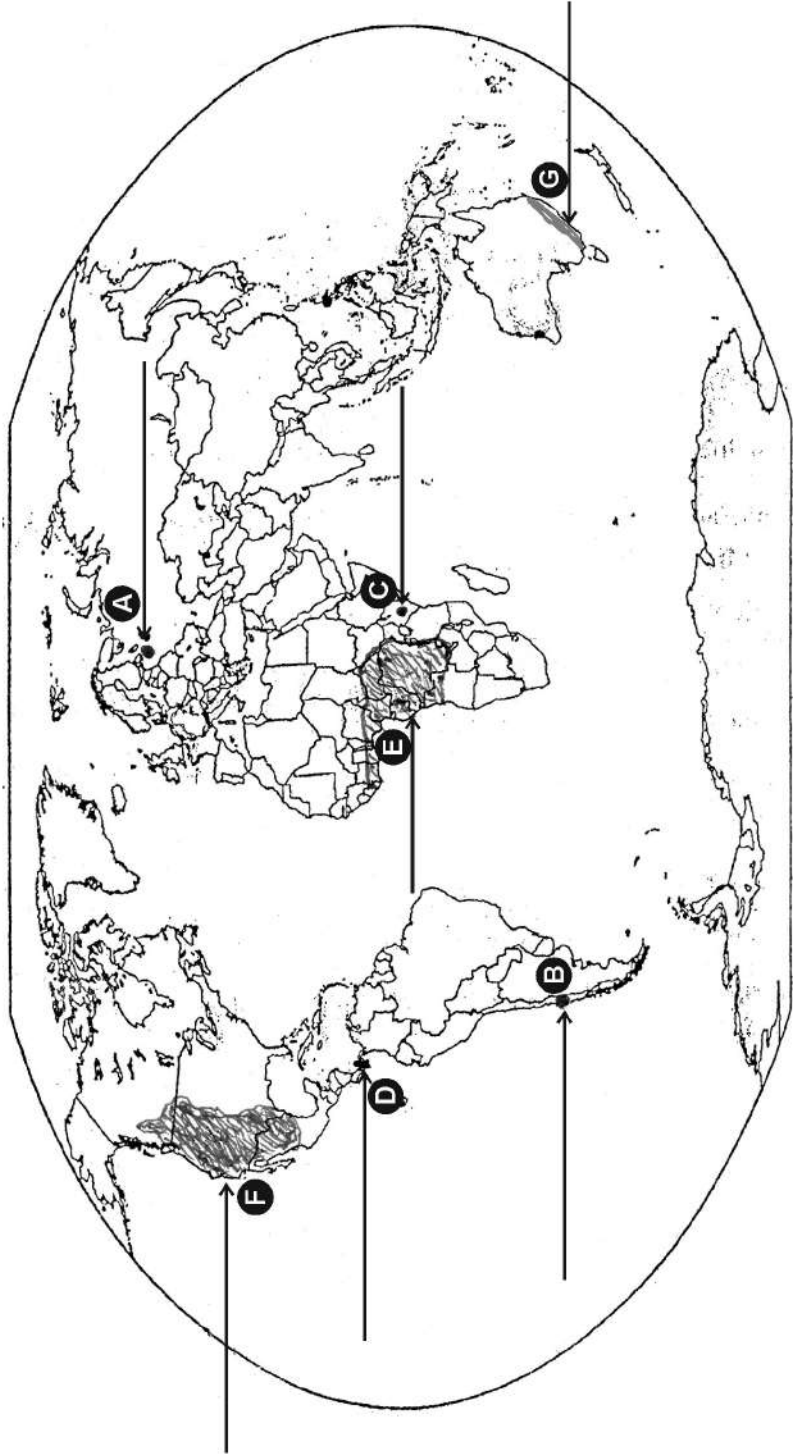


}

प्रश्न सं. 29 के लिए मानचित्र
Map for Q. No. 29

----- Cut Here ----- यहाँ से काटें ----- Cut Here ----- यहाँ से काटें -----

WORLD : Outline





}



}

प्रश्न सं. 30 के लिए मानचित्र
Map for Q. No. 30

यहाँ से काटें

Cut Here

यहाँ से काटें

Cut Here





}