

Series : QSR5P



SET~1

प्रश्न-पत्र कोड  
Q.P. Code

59/5/1

रोल नं.   
Roll No.

परीक्षार्थी प्रश्न-पत्र कोड को उत्तर-पुस्तिका के मुख-पृष्ठ पर अवश्य लिखें।  
Candidates must write the Q.P. Code on the title page of the answer-book.

नोट	NOTE
(I) कृपया जाँच कर लें कि इस प्रश्न-पत्र में मुद्रित पृष्ठ 19 हैं।	(I) Please check that this question paper contains 19 printed pages.
(II) प्रश्न-पत्र में दाहिने हाथ की ओर दिए गए प्रश्न-पत्र कोड को परीक्षार्थी उत्तर-पुस्तिका के मुख-पृष्ठ पर लिखें।	(II) Q.P. Code given on the right hand side of the question paper should be written on the title page of the answer-book by the candidate.
(III) कृपया जाँच कर लें कि इस प्रश्न-पत्र में 30 प्रश्न हैं।	(III) Please check that this question paper contains 30 questions.
(IV) कृपया प्रश्न का उत्तर लिखना शुरू करने से पहले, उत्तर-पुस्तिका में यथा स्थान पर प्रश्न का क्रमांक अवश्य लिखें। []	(IV) Please write down the Serial Number of the question in the answer-book at the given place before attempting it.
(V) इस प्रश्न-पत्र को पढ़ने के लिए 15 मिनट का समय दिया गया है। प्रश्न-पत्र का वितरण पूर्वाह्न में 10.15 बजे किया जाएगा। 10.15 बजे से 10.30 बजे तक परीक्षार्थी केवल प्रश्न-पत्र को पढ़ेंगे और इस अवधि के दौरान वे उत्तर-पुस्तिका पर कोई उत्तर नहीं लिखेंगे।	(V) 15 minute time has been allotted to read this question paper. The question paper will be distributed at 10.15 a.m. From 10.15 a.m. to 10.30 a.m., the candidates will read the question paper only and will not write any answer on the answer-book during this period.



राजनीति विज्ञान  
POLITICAL SCIENCE



निर्धारित समय : 3 घण्टे

Time allowed : 3 hours

अधिकतम अंक : 80

Maximum Marks : 80

^59/5/1^

1

\*

[ P.T.O. ]



## सामान्य निर्देश :

निम्नलिखित निर्देशों को बहुत सावधानी से पढ़िए और उनका पालन कीजिए :

- (i) इस प्रश्न-पत्र में 30 प्रश्न हैं। सभी प्रश्न अनिवार्य हैं।
- (ii) प्रश्न-पत्र पाँच खण्डों में विभाजित है – खण्ड क, ख, ग, घ एवं ङ।
- (iii) खण्ड क – प्रश्न संख्या 1 से 12 तक बहुविकल्पीय प्रकार के प्रश्न हैं। प्रत्येक प्रश्न 1 अंक का है।
- (iv) खण्ड ख – प्रश्न संख्या 13 से 18 तक लघु-उत्तरीय प्रकार के प्रश्न हैं। प्रत्येक प्रश्न 2 अंकों का है। प्रत्येक प्रश्न का उत्तर 50 से 60 शब्दों में लिखिए।
- (v) खण्ड ग – प्रश्न संख्या 19 से 23 तक दीर्घ-उत्तरीय प्रकार-I के प्रश्न हैं। प्रत्येक प्रश्न 4 अंकों का है। प्रत्येक प्रश्न का उत्तर 100 से 120 शब्दों में लिखिए।
- (vi) खण्ड घ – प्रश्न संख्या 24 से 26 अवतरण, कार्टून तथा मानचित्र-आधारित प्रश्न हैं। प्रत्येक प्रश्न 4 अंकों का है। प्रत्येक प्रश्न का उत्तर यथानुसार लिखिए।
- (vii) खण्ड ङ – प्रश्न संख्या 27 से 30 तक दीर्घ-उत्तरीय प्रकार-II के प्रश्न हैं। प्रत्येक प्रश्न 6 अंकों का है। प्रत्येक प्रश्न का उत्तर 170 से 180 शब्दों में लिखिए।
- (viii) प्रश्न-पत्र में कोई समग्र विकल्प नहीं है। यद्यपि, कुछ प्रश्नों में आंतरिक विकल्प का प्रावधान दिया गया है। इन प्रश्नों में से केवल एक ही प्रश्न का उत्तर लिखा जाए।
- (ix) इसके अतिरिक्त, ध्यान दें कि दृष्टिबाधित परीक्षार्थियों के लिए फोटो तथा मानचित्र आदि आधारित प्रश्नों के स्थान पर एक अन्य प्रश्न दिया गया है। इन प्रश्नों के उत्तर केवल दृष्टिबाधित परीक्षार्थी ही लिखें।

### खण्ड क

प्रश्न संख्या 1 से 12 तक बहुविकल्पीय प्रकार के 1 अंक के प्रश्न हैं।

12×1=12

1. निम्नलिखित में से कौन सोवियत संघ का एक गणराज्य नहीं था ?
 

(A) ताजिकिस्तान	(B) उज्बेकिस्तान
(C) अफ़ग़ानिस्तान	(D) अज़रबैजान
2. निम्नलिखित में से कौन 1985 में सोवियत संघ की कम्युनिस्ट पार्टी का महासचिव था ?
 

(A) जोसेफ स्टालिन	(B) मिखाइल गोर्बाचेव
(C) लियोनिद ब्रेज़्नेव	(D) निकिता ख़ुश्चेव





### General Instructions :

Read the following instructions very carefully and follow them :

- (i) This question paper contains **30** questions. **All** questions are **compulsory**.
- (ii) Question paper is divided into **five** sections – **Sections A, B, C, D and E**.
- (iii) **Section A** – questions number **1 to 12** are Multiple Choice type questions. Each question carries **1** mark.
- (iv) **Section B** – questions number **13 to 18** are Short Answer type questions. Each question carries **2** marks. Write answer to each question in **50 to 60** words.
- (v) **Section C** – questions number **19 to 23** are Long Answer type-I questions. Each question carries **4** marks. Write answer to each question in **100 to 120** words.
- (vi) **Section D** – questions number **24 to 26** are Passage, Cartoon and Map-based questions. Each question carries **4** marks. Answer each question accordingly.
- (vii) **Section E** – questions number **27 to 30** are Long Answer type-II questions. Each question carries **6** marks. Write answer to each question in **170 to 180** words.
- (viii) There is no overall choice in the question paper. However, an internal choice has been provided in few questions. Only **one** of the choices in such questions has to be attempted.
- (ix) In addition to this, note that a separate question has been provided for Visually Impaired candidates in lieu of questions having visual inputs, map etc. Such questions are to be attempted by Visually Impaired candidates only.

### SECTION A

Questions number **1 to 12** are Multiple Choice type questions, carrying **1** mark each.

$12 \times 1 = 12$

1. Which one of the following was **not** a republic of the Soviet Union ?
 

(A) Tajikistan	(B) Uzbekistan
(C) Afghanistan	(D) Azerbaijan
  
2. Who among the following was the General Secretary of the Communist Party of Soviet Union in 1985 ?
 

(A) Joseph Stalin	(B) Mikhail Gorbachev
(C) Leonid Brezhnev	(D) Nikita Khrushchev





प्रश्न संख्या 3 के लिए, दो कथन दिए गए हैं – जिनमें एक को अभिकथन (A) तथा दूसरे को कारण (R) द्वारा अंकित किया गया है। इन कथनों को ध्यान से पढ़िए और नीचे दिए गए विकल्पों (A), (B), (C) और (D) में से उत्तर के रूप में सही विकल्प चुनिए।

3. अभिकथन (A) : अप्रैल 2006 में नेपाल में पूरे देश में लोकतंत्र के पक्ष में विरोध प्रदर्शन हुए।  
कारण (R) : 2002 में राजा ने पार्लियामेंट को समाप्त कर के सरकार को भंग कर दिया था।

**विकल्प :**

- (A) अभिकथन (A) और कारण (R) दोनों सही हैं और कारण (R), अभिकथन (A) की सही व्याख्या करता है।  
(B) अभिकथन (A) और कारण (R) दोनों सही हैं, परंतु कारण (R), अभिकथन (A) की सही व्याख्या नहीं करता है।  
(C) अभिकथन (A) सही है, परंतु कारण (R) गलत है।  
(D) अभिकथन (A) गलत है, परंतु कारण (R) सही है।

4. निम्नलिखित का सही मिलान कीजिए :

A	B
1. जनरल ज़िया-उल-हक़	(i) बांग्लादेश
2. ज़ियारुहमान	(ii) नेपाल
3. राजपक्षे	(iii) पाकिस्तान
4. सेवेन पार्टी अलाएंस	(iv) श्रीलंका

**विकल्प :**

- (A) 1-(i), 2-(iii), 3-(iv), 4-(ii)                      (B) 1-(iv), 2-(ii), 3-(i), 4-(iii)  
(C) 1-(iii), 2-(i), 3-(iv), 4-(ii)                      (D) 1-(iii), 2-(iv), 3-(ii), 4-(i)

5. दिए गए विकल्पों में से 'साल्ट' (SALT) संधि का सही विस्तृत रूप चुनिए :

- (A) स्पेशल आर्म्स लिमिटेड ट्रीटी  
(B) स्ट्रेटेजिक आर्म्स लिमिटेशन ट्रीटी  
(C) सीक्रेट आर्म्स लिमिटेशन ट्रीटी  
(D) साउथ एशिया लोकल ट्रीटी

6. निम्नलिखित में से कौन-सा विकल्प सुरक्षा के लिए खतरे का एक नया स्रोत नहीं है ?

- (A) आतंकवाद    (B) युद्ध  
(C) गरीबी    (D) प्रवास





For Question number 3, two statements are given — one labelled as Assertion (A) and the other labelled as Reason (R). Read these statements carefully and choose the correct option as the answer from the options (A), (B), (C) and (D) given below.

3. Assertion (A) : In April 2006, there were massive countrywide pro-democracy protests in Nepal.

Reason (R) : In 2002, the king abolished the parliament and dismissed the government.

**Options :**

- (A) Both Assertion (A) and Reason (R) are true and Reason (R) is the correct explanation of the Assertion (A).
- (B) Both Assertion (A) and Reason (R) are true, but Reason (R) is **not** the correct explanation of the Assertion (A).
- (C) Assertion (A) is true, but Reason (R) is false.
- (D) Assertion (A) is false, but Reason (R) is true.

4. Match the following correctly :

A	B
1. General Zia-ul-Haq	(i) Bangladesh
2. Ziaur Rahman	(ii) Nepal
3. Rajapaksa	(iii) Pakistan
4. Seven Party Alliance	(iv) Sri Lanka

**Options :**

- (A) 1-(i), 2-(iii), 3-(iv), 4-(ii)
- (B) 1-(iv), 2-(ii), 3-(i), 4-(iii)
- (C) 1-(iii), 2-(i), 3-(iv), 4-(ii)
- (D) 1-(iii), 2-(iv), 3-(ii), 4-(i)

5. Choose the correct full form of the 'SALT' treaty from the options given below :

- (A) Special Arms Limited Treaty
- (B) Strategic Arms Limitation Treaty
- (C) Secret Arms Limitation Treaty
- (D) South Asia Local Treaty

6. Which one of the following is **not** a new source of threat to security ?

- (A) Terrorism
- (B) War
- (C) Poverty
- (D) Migration





7. निम्नलिखित में से किसने 'द्वि-राष्ट्र के सिद्धांत' को प्रस्तुत किया था ?
- (A) ब्रिटिश सरकार (B) मुस्लिम लीग  
(C) खान अब्दुल गफ्फार खान (D) लॉर्ड माउंटबेटन

प्रश्न संख्या 8 के लिए, दो कथन दिए गए हैं – जिनमें एक को अभिकथन (A) तथा दूसरे को कारण (R) द्वारा अंकित किया गया है। इन कथनों को ध्यान से पढ़िए और नीचे दिए गए विकल्पों (A), (B), (C) और (D) में से उत्तर के रूप में सही विकल्प चुनिए।

8. अभिकथन (A) : 1947 में भारत की सीमा के दोनों तरफ हत्याएं और अत्याचार हुए।  
कारण (R) : जनसंख्या का नियोजित स्थानांतरण असफल हो चुका था।

**विकल्प :**

- (A) अभिकथन (A) और कारण (R) दोनों सही हैं और कारण (R), अभिकथन (A) की सही व्याख्या करता है।  
(B) अभिकथन (A) और कारण (R) दोनों सही हैं, परंतु कारण (R), अभिकथन (A) की सही व्याख्या नहीं करता है।  
(C) अभिकथन (A) सही है, परंतु कारण (R) गलत है।  
(D) अभिकथन (A) गलत है, परंतु कारण (R) सही है।
9. 'नीति आयोग' कब अस्तित्व में आया ?
- (A) 1 जनवरी, 2015 (B) 26 जनवरी, 2015  
(C) 15 अगस्त, 2015 (D) 1 नवम्बर, 2015
10. निम्नलिखित घटनाओं को कालक्रमानुसार व्यवस्थित कीजिए :
- (i) पी.सी. महालनोबिस ने एक पंचवर्षीय योजना का नेतृत्व किया।  
(ii) के.एन. राज को प्रथम पंचवर्षीय योजना का प्रारूप तैयार करने में शामिल किया गया था।  
(iii) 'बॉम्बे प्लान' तैयार किया गया।  
(iv) योजना आयोग की स्थापना की गई।

**विकल्प :**

- (A) (iii), (iv), (ii), (i) (B) (iv), (iii), (ii), (i)  
(C) (iii), (iv), (i), (ii) (D) (iv), (iii), (i), (ii)
11. किस राजनीतिक पार्टी/गठबन्धन की सरकार ने मंडल आयोग की सिफारिशों को लागू करने का निर्णय लिया था ?
- (A) भारतीय राष्ट्रीय काँग्रेस (B) नेशनल फ्रंट  
(C) यूनाइटेड फ्रंट (D) जनता पार्टी





7. Who among the following advanced the 'Two-nation theory' ?
- (A) British Government (B) Muslim League  
(C) Khan Abdul Gaffar Khan (D) Lord Mountbatten

*For Question number 8, two statements are given — one labelled as Assertion (A) and the other labelled as Reason (R). Read these statements carefully and choose the correct option as the answer from the options (A), (B), (C) and (D) given below.*

8. *Assertion (A) :* There were killings and atrocities on both sides of the border of India in 1947.

*Reason (R) :* The planned transfer of the population had failed.

**Options :**

- (A) Both Assertion (A) and Reason (R) are true and Reason (R) is the correct explanation of the Assertion (A).  
(B) Both Assertion (A) and Reason (R) are true, but Reason (R) is **not** the correct explanation of the Assertion (A).  
(C) Assertion (A) is true, but Reason (R) is false.  
(D) Assertion (A) is false, but Reason (R) is true.
9. 'NITI Aayog' came into existence on :
- (A) 1<sup>st</sup> January, 2015 (B) 26<sup>th</sup> January, 2015  
(C) 15<sup>th</sup> August, 2015 (D) 1<sup>st</sup> November, 2015

10. Arrange the following events in chronological order :

- (i) P.C. Mahalanobis led a Five-Year Plan.  
(ii) K.N. Raj was involved in drafting the First Five-Year Plan.  
(iii) The 'Bombay Plan' was drafted.  
(iv) The Planning Commission was set up.

**Options :**

- (A) (iii), (iv), (ii), (i) (B) (iv), (iii), (ii), (i)  
(C) (iii), (iv), (i), (ii) (D) (iv), (iii), (i), (ii)
11. The government of which political party/alliance decided to implement the recommendations of the Mandal Commission ?
- (A) Indian National Congress (B) National Front  
(C) United Front (D) Janata Party





12. उस राजनीतिक पार्टी के नाम को चुनिए जिसकी विचारधारा गाँधीवादी समाजवाद के साथ सांस्कृतिक राष्ट्रवाद की है।
- (A) सोशलिस्ट पार्टी (B) जनता पार्टी  
(C) नेशनल कॉन्फ्रेंस (D) भारतीय जनता पार्टी

### खण्ड ख

13. संयुक्त राष्ट्र के किन्हीं चार प्रमुख अंगों के नाम लिखिए।  $4 \times \frac{1}{2} = 2$
14. वैश्वीकरण का अर्थ स्पष्ट कीजिए। 2
15. भारत में वैश्वीकरण के विरोध के किन्हीं दो कारणों का विश्लेषण कीजिए।  $2 \times 1 = 2$
16. जनसंघ की उस विचारधारा को दर्शाइए जो इसे अन्य पार्टियों से अलग करती है। 2
17. सामाजिक और विचारधारात्मक गठबंधन के रूप में काँग्रेस पार्टी की प्रकृति की किन्हीं दो विशेषताओं को उजागर कीजिए।  $2 \times 1 = 2$
18. अगस्त 1990 में मंडल आयोग की सिफारिशों को लागू करने के किन्हीं दो तात्कालिक परिणामों की व्याख्या कीजिए।  $2 \times 1 = 2$

### खण्ड ग

19. (क) “भारत-रूस के संबंध आपसी विश्वास और साझा हितों के इतिहास में रचे बसे हैं।” चार उदाहरणों के साथ इस कथन का समर्थन कीजिए।  $4 \times 1 = 4$
- अथवा**
- (ख) “सोवियत प्रणाली लोगों का कल्याण सुनिश्चित करने के लिए थी।” चार उदाहरणों के साथ इस कथन का समर्थन कीजिए।  $4 \times 1 = 4$
20. शीत युद्ध की समाप्ति के बाद विश्व में आए किन्हीं चार परिवर्तनों का वर्णन कीजिए।  $4 \times 1 = 4$
21. किसी देश की सुरक्षा को संभावित युद्ध से खतरा होने पर उसके पास उपलब्ध किन्हीं चार विकल्पों को उजागर कीजिए।  $4 \times 1 = 4$



[]



12. Choose the name of that political party which has Gandhian Socialism along with cultural nationalism as its ideology.

- (A) Socialist Party (B) Janata Party  
(C) National Conference (D) Bharatiya Janata Party

### SECTION B

13. Name any four principal organs of the United Nations.  $4 \times \frac{1}{2} = 2$
14. Explain the meaning of globalisation. 2
15. Analyse any two reasons for resistance to globalisation in India.  $2 \times 1 = 2$
16. Show the ideology of the Jana Sangh that makes it different from other parties. 2
17. Highlight any two features of the nature of the Congress party as a social and ideological coalition.  $2 \times 1 = 2$
18. Explain any two immediate consequences of the implementation of the recommendations of the Mandal Commission in August 1990.  $2 \times 1 = 2$

### SECTION C

19. (a) "Indo-Russian relations are embedded in the history of trust and common interests." Support the statement with four examples.  $4 \times 1 = 4$

**OR**

(b) Soviet system was to ensure the welfare of the people." Support the statement with four examples.  $4 \times 1 = 4$

20. Describe any four changes that occurred in the world after the end of the Cold War.  $4 \times 1 = 4$

21. Highlight any four choices available to a state when its security is threatened by a possible war.  $4 \times 1 = 4$





22. (क) 1967 के चुनावों के बाद काँग्रेस पार्टी में विभाजन के किन्हीं दो प्रमुख कारणों को स्पष्ट कीजिए। 2×2=4

**अथवा**

- (ख) पाँचवें आम चुनावों से पूर्व प्रधानमंत्री इन्दिरा गाँधी की लोकप्रियता के कोई चार कारण स्पष्ट कीजिए। 4×1=4

23. क्या 1975 में घोषित आपातकाल आवश्यक था ? अपने उत्तर के पक्ष में दो तर्क दीजिए। 2×2=4

**खण्ड घ**

24. निम्नलिखित अवतरण को ध्यानपूर्वक पढ़िए और इस पर आधारित प्रश्नों के उत्तर दीजिए : 4×1=4

“1989 में काँग्रेस पार्टी की हार ने भारत की दलीय व्यवस्था में काँग्रेस के प्रभुत्व का अन्त चिह्नित किया। हालाँकि इसका अर्थ काँग्रेस पार्टी का स्थान लेने के लिए किसी अन्य दल का उदय नहीं था। इस प्रकार बहुदलीय प्रणाली का युग शुरू हुआ जिसमें क्षेत्रीय पार्टियों ने गठबन्धन बनाने में महत्वपूर्ण भूमिका निभाई।”

- (i) कौन-से वर्ष काँग्रेस पार्टी को पहली बार झटका लगा और कुछ राज्यों में सत्ता खोनी पड़ी ?  
 (A) 1962 (B) 1967  
 (C) 1971 (D) 1977
- (ii) किस राजनीतिक पार्टी/गठबंधन ने दिसम्बर 1989 में पहली गठबन्धन की सरकार बनाई थी ?  
 (A) नेशनल कॉन्फ्रेंस (B) नेशनल फ्रंट  
 (C) भारतीय राष्ट्रीय काँग्रेस (D) यूनाइटेड फ्रंट
- (iii) निम्नलिखित में से कौन-से क्षेत्रीय दल ने किसी भी राज्य में कभी कोई सरकार नहीं बनाई ?  
 (A) बहुजन समाज पार्टी  
 (B) द्रविड़ मुनेत्र कषगम  
 (C) भारतीय क्रांति दल  
 (D) शिरोमणि अकाली दल
- (iv) 1989 के चुनावों के बाद लोक सभा में कौन-सी पार्टी सबसे बड़ी पार्टी थी ?  
 (A) नेशनल फ्रंट  
 (B) भारतीय राष्ट्रीय काँग्रेस  
 (C) भारतीय जनता पार्टी  
 (D) जनता पार्टी





22. (a) Explain any two major reasons for the split in the Congress party after the 1967 elections. 2×2=4

**OR**

- (b) Explain any four reasons for the popularity of Prime Minister Indira Gandhi before the fifth general elections. 4×1=4
23. Was the Emergency declared in 1975 necessary ? Support your answer with two arguments. 2×2=4

**SECTION D**

24. Read the following passage carefully and answer the questions based on it : 4×1=4

“The defeat of the Congress party in 1989 marked the end of Congress dominance over the Indian party system. It did not, however, mean the emergence of any other single party to fill in its place. Thus, began an era of multi-party system, in which regional parties played a crucial role in forming the alliances.”

- (i) In which year did the Congress party face a setback for the first time and lose power in some states ?
- |          |          |
|----------|----------|
| (A) 1962 | (B) 1967 |
| (C) 1971 | (D) 1977 |
- (ii) Which political party/alliance formed the first coalition government in December 1989 ?
- |                              |                    |
|------------------------------|--------------------|
| (A) National Conference      | (B) National Front |
| (C) Indian National Congress | (D) United Front   |
- (iii) Which one of the following regional parties never formed a government in any state ?
- |                          |                               |
|--------------------------|-------------------------------|
| (A) Bahujan Samaj Party  | (B) Dravida Munnetra Kazhagam |
| (C) Bharatiya Kranti Dal | (D) Shiromani Akali Dal       |
- (iv) Which party was the largest party in the Lok Sabha after the 1989 elections ?
- |                            |                              |
|----------------------------|------------------------------|
| (A) National Front         | (B) Indian National Congress |
| (C) Bharatiya Janata Party | (D) Janata Party             |





25. भारत के दिए गए राजनीतिक रेखा-मानचित्र (पृष्ठ 13 पर), में चार राज्यों को (A), (B), (C) और (D) के रूप में अंकित किया गया है। नीचे दी गई जानकारी के आधार पर, इन राज्यों की पहचान कीजिए और अपनी उत्तर-पुस्तिका में इनके सही नाम, प्रयोग की गई जानकारी की क्रम संख्या तथा मानचित्र में दिया गया संबंधित अक्षर, नीचे दी गई तालिका के रूप में लिखिए :

4×1=4

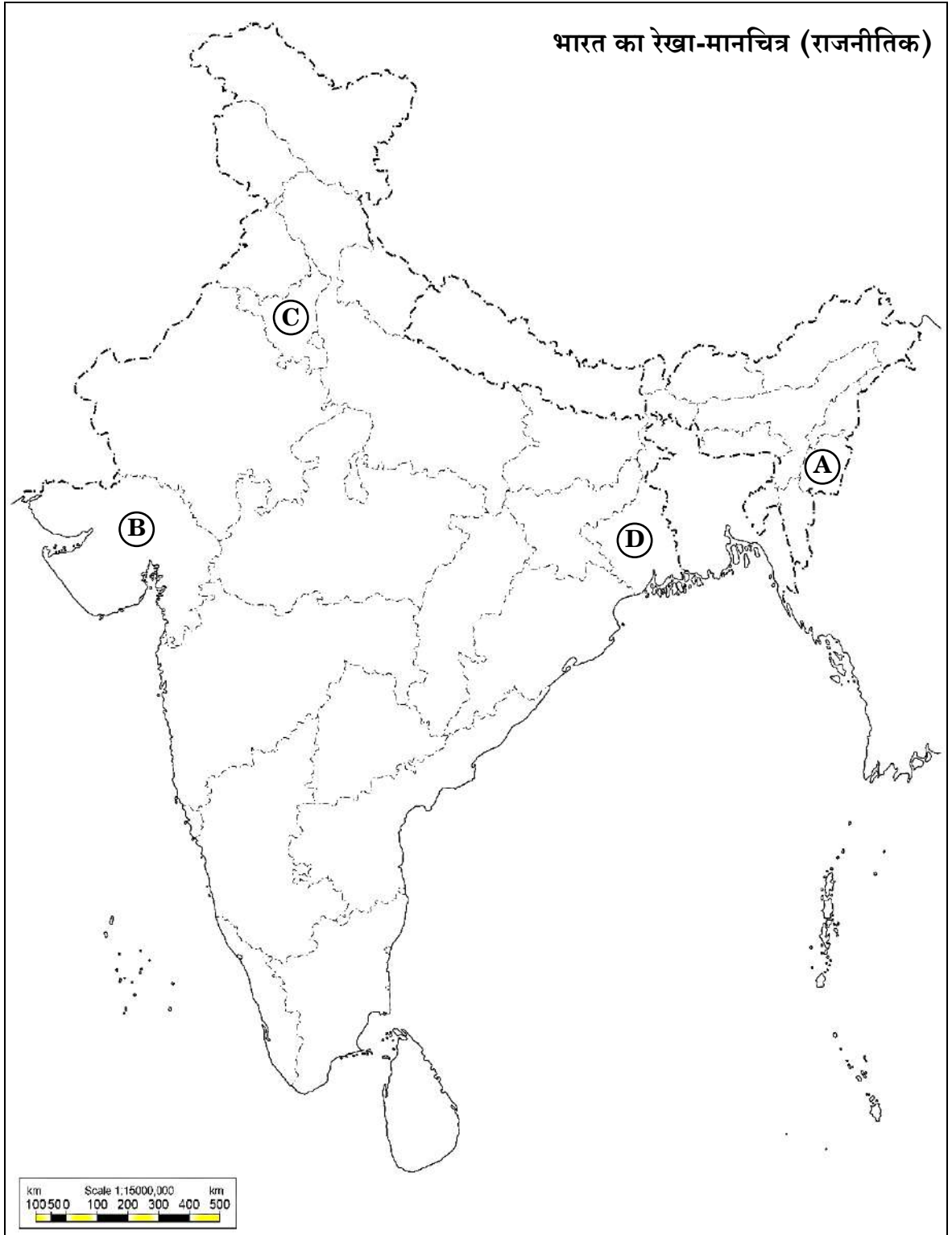
प्रयोग की गई जानकारी की क्रम संख्या	मानचित्र में दिया गया संबंधित अक्षर	राज्य का नाम
(i)		
(ii)		
(iii)		
(iv)		

- (i) वह राज्य जिसको भारत और पाकिस्तान के विभाजन के समय दो भागों में बाँटा गया था।
- (ii) 1966 में निर्मित राज्य।
- (iii) भारत के प्रथम उप-प्रधानमंत्री सरदार वल्लभभाई पटेल से संबंधित राज्य।
- (iv) महाराजा बोधचन्द्र सिंह से संबंधित राज्य।





प्रश्न सं. 25 के लिए





25. In the given political outline map of **India** (on page 15), four States have been marked as (A), (B), (C) and (D). Identify these States on the basis of the information given below and write their correct names in your answer-book along with the respective serial number of the information used and the concerned alphabets given in the map as per the following format :

4×1=4

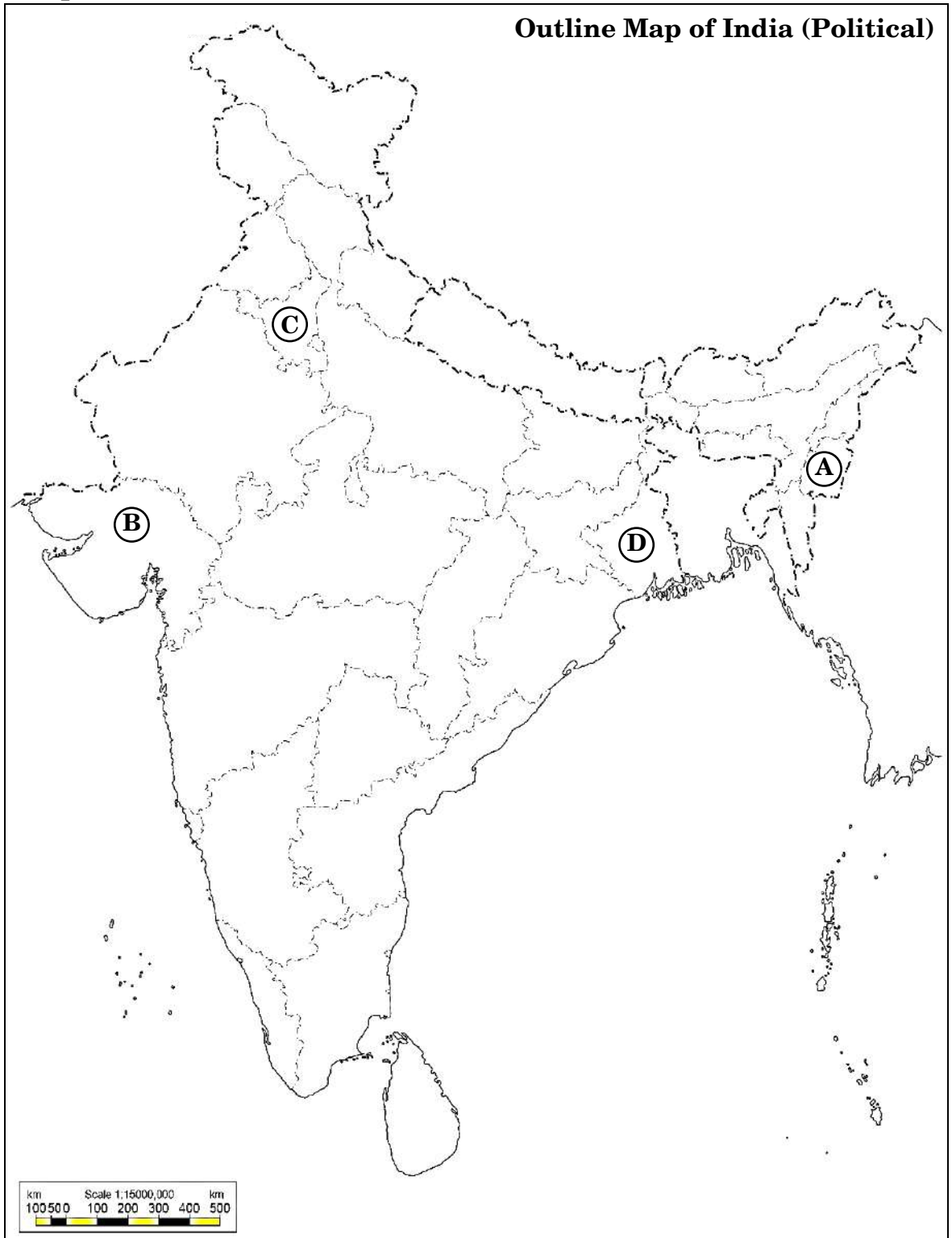
Serial number of the information used	Concerned alphabet given in the map	Name of the State
(i)		
(ii)		
(iii)		
(iv)		

- (i) The state which was bifurcated between India and Pakistan at the time of the partition.
- (ii) The state which was created in 1966.
- (iii) The state to which the first Deputy Prime Minister Sardar Vallabhbhai Patel belonged.
- (iv) The state to which Maharaja Bodhchandra Singh belonged.





For question no. 25






**नोट :** निम्नलिखित प्रश्न केवल दृष्टिबाधित परीक्षार्थियों के लिए प्रश्न संख्या 25 के स्थान पर हैं :  $4 \times 1 = 4$

- (25.1) भारत के प्रथम गृह मंत्री का नाम लिखिए ।  
 (25.2) स्वतंत्रता के बाद आंध्र प्रदेश का गठन किस वर्ष हुआ था ?  
 (25.3) ब्रिटिश इंडिया के विभाजन के लिए उत्तरदायी सिद्धांत का नाम लिखिए ।  
 (25.4) झारखण्ड राज्य का गठन किस वर्ष हुआ था ?

**26.** नीचे दिए गए कार्टून का अध्ययन कीजिए और इस पर आधारित प्रश्नों के उत्तर दीजिए :  $4 \times 1 = 4$

**नोट :** सूट में दिखाया गया व्यक्ति राष्ट्रपति मुशर्रफ़ है और कैप (टोपी) में दिखाया गया वही व्यक्ति जनरल मुशर्रफ़ है । पाकिस्तान की राजनीति के आधार पर निम्नलिखित प्रश्नों के उत्तर लिखिए ।



- (i) सबसे ऊपर दिया गया समीकरण क्या सन्देश देता है ? स्पष्ट कीजिए ।  
 (ii) बीच की पंक्ति के समीकरण का सन्देश स्पष्ट कीजिए ।  
 (iii) सबसे नीचे की लाइन का सन्देश स्पष्ट कीजिए ।  
 (iv) पूरे कार्टून द्वारा दिए गए सन्देश को उजागर कीजिए ।

**नोट :** निम्नलिखित प्रश्न केवल दृष्टिबाधित परीक्षार्थियों के लिए प्रश्न संख्या 26 के स्थान पर हैं :  $4 \times 1 = 4$

- (26.1) पाकिस्तान के प्रथम सैन्य शासक का नाम लिखिए ।  
 (26.2) बांग्लादेश कौन-से वर्ष अस्तित्व में आया था ?  
 (26.3) उस नेता का नाम लिखिए जिसने 1971 से 1977 तक पाकिस्तान में एक निर्वाचित सरकार का नेतृत्व किया था ?  
 (26.4) दक्षिण एशिया के देशों के क्षेत्रीय संगठन का नाम लिखिए ।






**Note :** The following questions are for the **Visually Impaired Candidates** only, in lieu of Q. No. 25 : 4×1=4

- (25.1) Name the first Home Minister of India.  
 (25.2) In which year was Andhra state formed after independence ?  
 (25.3) Name the theory that led to the partition of British India.  
 (25.4) In which year was the Jharkhand state created ?

**26.** Study the cartoon given below and answer the questions based on it : 4×1=4

**Note :** The man shown in the suit is President Musharraf and the same man shown in the cap is General Musharraf. On the basis of politics in Pakistan, answer the following questions.



- (i) What message is given by the uppermost equation ? Explain.  
 (ii) Explain the message given by the middle line.  
 (iii) Explain the message given by the lowest line.  
 (iv) Highlight the message conveyed by the whole cartoon.

**Note :** The following questions are for the **Visually Impaired Candidates** only, in lieu of Q. No. 26 : 4×1=4

- (26.1) Name the first military ruler of Pakistan.  
 (26.2) In which year did Bangladesh come into existence ?  
 (26.3) Name the leader who formed an elected government in Pakistan from 1971 to 1977.  
 (26.4) Name the regional organisation of South Asian countries.





### खण्ड ड

27. (क) चीन की अर्थव्यवस्था को उत्थान की ओर ले जाने हेतु चीन के नेताओं द्वारा लिए किन्हीं चार निर्णयों का विश्लेषण कीजिए।  $4 \times 1 \frac{1}{2} = 6$

#### अथवा

- (ख) यूरोपीय संघ को एक प्रभावशाली क्षेत्रीय संगठन बनाने वाले किन्हीं चार कारणों का विश्लेषण कीजिए।  $4 \times 1 \frac{1}{2} = 6$

28. (क) पर्यावरण के संरक्षण, बचाव और इसके पुनर्जीवन के लिए 'साझी परन्तु अलग-अलग जिम्मेदारियों' के सिद्धांत की व्याख्या कीजिए। 6

#### अथवा

- (ख) पर्यावरण को क्षरण (निम्नीकरण) से बचाने के लिए भारत सरकार द्वारा उठाए गए किन्हीं चार कदमों की व्याख्या कीजिए।  $4 \times 1 \frac{1}{2} = 6$

29. (क) भारत और चीन के बीच तनावपूर्ण सम्बन्धों के लिए उत्तरदायी किन्हीं तीन कारणों को स्पष्ट कीजिए।  $3 \times 2 = 6$

#### अथवा

- (ख) भारत की परमाणु नीति की किन्हीं तीन विशेषताओं को स्पष्ट कीजिए।  $3 \times 2 = 6$

30. (क) "क्षेत्रीय आकांक्षाएँ और माँगें लोकतांत्रिक राजनीति का अभिन्न अंग हैं।" तीन उदाहरणों से इस कथन का समर्थन कीजिए।  $3 \times 2 = 6$

#### अथवा

- (ख) भारत की 'विविधता में एकता' को मजबूत करने के लिए कोई तीन उपाय सुझाइए।  $3 \times 2 = 6$



**SECTION E**

27. (a) Analyse any four decisions made by the Chinese leadership that led to the rise of the Chinese economy.  $4 \times 1 \frac{1}{2} = 6$

**OR**

- (b) Analyse any four reasons that make the European Union an influential regional organisation.  $4 \times 1 \frac{1}{2} = 6$

28. (a) Explain the concept of 'common but differentiated responsibilities' to conserve, protect and restore the health of the environment. 6

**OR**

- (b) Explain any four steps taken by the Government of India to save the environment from degradation.  $4 \times 1 \frac{1}{2} = 6$

29. (a) Explain any three reasons that are responsible for the strained relations between India and China.  $3 \times 2 = 6$

**OR**

- (b) Explain any three important features of India's Nuclear Policy.  $3 \times 2 = 6$

30. (a) 'Regional aspirations and demands are part and parcel of democratic politics.' Support the statement with three examples.  $3 \times 2 = 6$

**OR**

- (b) Suggest any three measures to strengthen 'unity in diversity' in India.  $3 \times 2 = 6$

